

一、單選題 (每題 2.5 分)：

◎ 附圖一到附圖三為非洲相關簡圖。請回答下列問題：



圖一、非洲簡圖



圖二、非洲氣候分布圖



圖三、非洲國家分布圖

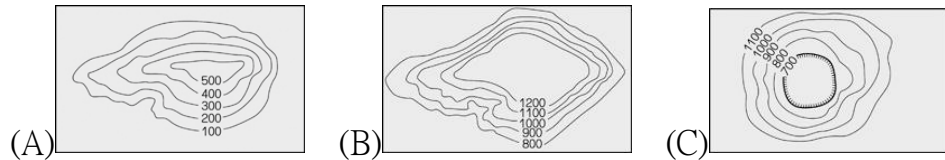
1. 富岡老師想去非洲某地旅行，該地區的特色是古代文明、阿拉伯美食、伊斯蘭教堂以及咖啡等項目。請問：圖一何處主要以信仰伊斯蘭教為主？

- (A) 甲乙 (B) 乙丙 (C) 丙丁 (D) 甲丁。

2. 承上題，非洲自然與人文要以下列何者為地理分界？

- (A) 東非大裂谷 (B) 喀拉哈里沙漠 (C) 剛果盆地 (D) 撒哈拉沙漠。

3. 非洲地形的主體若以等高線來表示，應會呈現下列哪種型態？



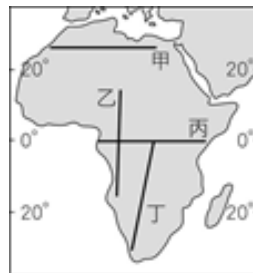
4. 若是炎柱乘坐熱氣球遊覽非洲各國，如右圖所示，

則哪一條路線由西向東經過時，會見到熱氣球越來越接近地表？

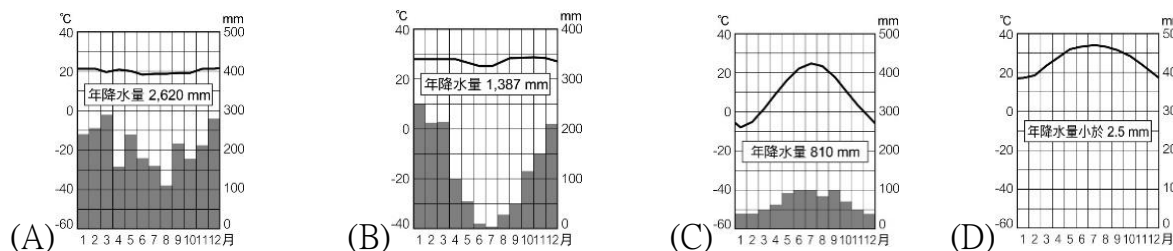
- (A) 甲 (B) 乙 (C) 丙 (D) 丁

5. 承上題，若想體驗非洲最多樣的氣候類型，應選擇圖中哪條路線？

- (A) 甲 (B) 乙 (C) 丙 (D) 丁。



6. 圖二的丙區有許多動物大遷徙必看的景點，由於特殊的氣候變化，造成動物為了水源進行季節性的遷移。請問：上文描述的氣候性質是接近下列哪一個氣候圖？



7. 圖二中的甲區，因為有副熱帶高氣壓沉降影響，導致常年乾燥少雨，發展出許多耐旱的動植物生態系。請問：上文描述的氣候形成原因，與下列地理區中的原因相同？

- (A) 中亞沙漠 45° N (B) 新疆塔里木盆地 43° N  
(C) 喀拉哈里沙漠 23.5° S (D) 南極寒漠 80° S。

8. 下圖為非洲居民傳統的產業的生活方式，所指的應為圖二中何處？

- (A) 甲 (B) 乙 (C) 丙 (D) 丁。



9. 當蝴蝶忍老師在當地旅遊時，發現當地流傳著只要把愛滋病傳染給別人，自己就會痊癒的錯誤消息…。疾病猖獗是降低非洲人均壽命的主因之一，下列何者不是非洲常見的傳染病？ (A) 糖尿病 (B) 瘧疾 (C) 痢疾 (D) 伊波拉。

10. 圖三中的某國，曾經實施種族隔離政策，遭到聯合國成員的抵制，經濟一度出現危機。現在已經從白人政府轉換成黑人政府，以工礦業的實力稱霸整個非洲。上述所稱的某國，指的是下列何者？

- (A) 甲 阿爾及利亞 (B) 乙 獅子山 (C) 丙 南非共和國 (D) 丁 伊索匹亞。

11. 非洲各國的國界的規劃非常整齊，無視自然地表與人文環境的考量，主要原因是下列何者？ (A) 愛滋蔓延 (B) 連年饑荒 (C) 世界大戰 (D) 殖民歷史。

12. 五條老師從氣候圖上發現非洲氣候具有南北對稱的特徵，則以下哪個答案可以解釋其原因？

- (A) 高原遍布 (B) 0 度經線通過中央 (C) 赤道橫貫非洲中部 (D) 地形崎嶇複雜

13. 氣候乾燥的埃及，將近 90% 左右的居民皆居住於哪條河川兩側？

- (A) 尼日河 (B) 尼羅河 (C) 剛果河 (D) 淡水河

14. 非洲地區未來的發展所面臨的最大問題為何？

- (A) 資源缺乏 (B) 人口老化 (C) 族群減少 (D) 飢餓、貧窮、戰爭及愛滋病

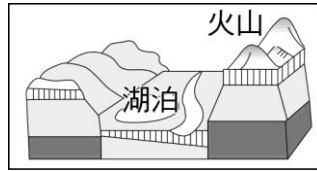
15. 在東非，有一條高聳陡峭的大裂縫，稱為大裂谷。請問：東非大裂谷的成因為何？

- (A) 河流侵蝕 (B) 板塊運動，地塊陷落 (C) 風力侵蝕 (D) 外星人的力量

16. 附圖是翔和在非洲旅遊時所繪製的地形景觀示意圖。請問：

翔和前往旅遊的地點最有可能位在下列哪個地區？

- (A) 北部非洲 (B) 西部非洲 (C) 南部非洲 (D) 東部非洲



17. 「在一望無際的草原上，有斑馬、長頸鹿、羚羊、獅子等各種的動物在奔跑追逐...」。請問：這種景象可能出現在非洲的何種氣候類型中？

- (A) 熱帶雨林氣候 (B) 熱帶莽原氣候 (C) 熱帶沙漠氣候 (D) 高地氣候

18. 以下哪條運河聯絡了紅海及地中海，大幅縮短了歐、亞兩洲間的航運距離？

- (A) 蘇伊士運河 (B) 巴拿馬運河 (C) 興安運河 (D) 京杭大運河

19. 非洲大陸北部有撒哈拉沙漠，南部有喀拉哈里沙漠。這些沙漠形成的共同原因是？

- (A) 位處內陸，水氣難以進入 (B) 副熱帶高壓籠罩  
(C) 沿岸有暖流經過 (D) 位於西風的背風處

20. 非洲雖被稱為「黑暗大陸」，但此一名稱不適用於非洲哪個區域，因此區鄰近西亞與歐洲，自古與其文化交流互動密切？ (A) 東非 (B) 西非 (C) 南非 (D) 北非

21. 非洲國家的經濟易受到國際價格波動的影響，原因為何？

- (A) 長期依賴與中國的貿易 (B) 國內缺乏資金  
(C) 出口商品多集中在一兩種種類 (D) 經濟受亞洲國家干涉

22. 非洲許多國家在經濟上相當倚賴熱帶栽培業，是非洲主要的農業生產方式。請問：熱帶栽培業在非洲盛行的主要原因為何？

- (A) 糧食充足 (B) 土壤肥沃 (C) 氣候乾旱 (D) 氣候適合且殖民影響

23. 附圖為某地的農作物種類圓餅圖，請由此判斷，該地的農業型態應為何？

- (A) 副熱帶農作物 (B) 熱帶栽培業 (C) 酪農業 (D) 稻作農業



24. 2010 年的世界盃足球賽將在南非開普敦 (30° S) 舉辦，世界各地的國家隊都將前往當地比賽。請問：當地六月分舉辦世界盃比賽時，最容易遇到的天氣為下列何者？

- (A) 颱風來襲 (B) 連日降雨 (C) 乾旱酷熱 (D) 沙塵風暴

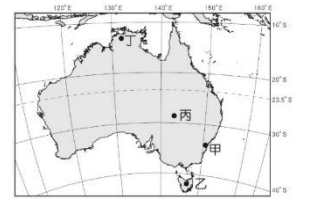
25. 阿誠帶著女友參加網友的聚會，在聚會上，網友們輪流介紹自己的國家，然而，下列哪位網友介紹的內容與事實不符？

- (A) 埃及高小瑜：「金字塔與人面獅身像為國家帶來大量觀光客，增加財政收入。」  
(B) 美國盈萱姐：「因為西班牙語的緣故，我的國家位於拉丁美洲。」  
(C) 秘魯曾歌歌：「印第安人曾在我的國家建立輝煌的文化與帝國。」  
(D) 南非曹正妹：「『鑽石恆久遠，一顆永流傳』會讓大家想到我的黑人家鄉。」

26. 澳洲的面積廣大，人口稀少，且有明顯的區域差異。

請問：下圖中哪個地區是該國人口及產業集中的精華區？

- (A) 甲 (B) 乙 (C) 丙 (D) 丁。



27. 大洋洲的三個主要島群中，玻里尼西亞和密克羅尼西亞的分界線為下列何者？

- (A) 經度 180 度 (B) 經度 0 度 (C) 緯度 0 度 (D) 緯度 90 度

28. 大洋洲珊瑚礁島國由於哪一種環境變遷，而使得他們必須放棄自己的家園，遷至其他國家？ (A) 臭氧層破洞 (B) 酸雨 (C) 沙漠化 (D) 溫室效應

29. 隨著空運時代的來臨，大洋洲已成為下列哪兩洲之間交通上的中途站？

- (A) 亞洲、北美洲 (B) 歐洲、亞洲 (C) 歐洲、非洲 (D) 非洲、北美洲

30. 大洋洲中的珊瑚礁島群，通常農業活動較不發達。請問：主要影響的因素中不包括下列何者？ (A) 缺乏淡水 (B) 面積狹小 (C) 缺乏降雨 (D) 氣候寒冷

31. 澳洲大分水嶺西側，乾燥少雨，卻能成為牧羊與小麥生產的重心，主要原因是？

- (A) 居民利用坎井為灌溉水源 (B) 居民利用自流井為灌溉水源  
(C) 河川上游興建水壩 (D) 使用海水淡化技術

32. 露亞、莉娜與施姊三人，利用假期到澳洲地區旅行，來到了澳洲的雪梨，在參觀當地的歌劇院時遇到了下雨，有點掃興。請問：當地的降雨主要受到下列何種風向的影響為主？ (A) 西風 (B) 東北季風 (C) 颶風 (D) 東南信風

33. 大堡礁為世界上最大的珊瑚礁群。該珊瑚礁群位於哪一個海洋？

- (A) 大西洋 (B) 北極海 (C) 印度洋 (D) 太平洋。

34. 澳洲的酪農業主要分布在東南沿海一帶，這種情況與下列哪項人文因素最相關？

- (A) 人口密集，鄰近都市 (B) 勞工充裕 (C) 技術進步 (D) 政策規定

35. 世界羊毛出產第一，位於南太平洋，被稱為「騎在羊背上的國家」是指下列何者？

- (A) 澳洲 (B) 印尼 (C) 阿根廷 (D) 蒙古

## 二、填圖題 (每題 2 分，共 10 分)

甲 (洋)	
A (國家)	
B (國家)	
a (經線)	
b (緯線)	

