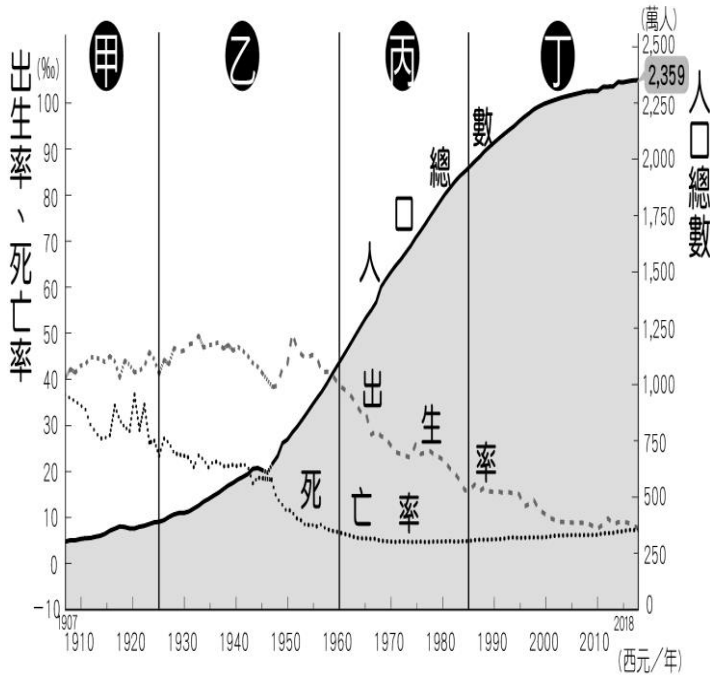


一、選擇 3*33

- () 人口的「自然增加」，主要是受到哪兩項因素的影響？ (A) 出生、移入 (B) 出生、移出 (C) 移入、移出 (D) 出生、死亡。
- () 笑笑國的女性人口為 270 萬人，男性人口為 300 萬人，則該國的性別比約為多少？ (A) 90 (B) 102 (C) 111 (D) 124。
- () 下列何者屬於人口遷移中的「永久遷移」？ (A) 嫁到臺灣定居的外籍配偶 (B) 出國深造的高材生 (C) 外籍配偶生的一對雙胞胎 (D) 來臺灣教美語的外國老師。
- () 由於近年來的社會變遷，臺灣已邁入高齡社會。目前對於高齡社會的因應，下列何者正確？ (A) 解決人口老化問題的最佳方案為大幅提高死亡率 (B) 由於扶養比仍高，故老年人的安養狀況不成問題 (C) 政府應開始積極增加長期照護資源與相關福利 (D) 平均壽命屢創新高，高齡人口自理能力隨之增長。
- () 出生人數與死亡人數的差額，大致可稱為什麼？ (A) 人口增加 (B) 社會增加 (C) 自然增加 (D) 人口密度。
- () 臺灣目前有許多縣市開始開設中文課程、技職訓練、子女教養研習等課程，另外像是桃園市也推出異國料理外燴的服務，廣受大家歡迎。請問：上述活動主要是希望增進臺灣哪一個族群的交流？ (A) 閩南人 (B) 原住民 (C) 新住民 (D) 客家人。
- () 附圖為臺灣近百年人口總數變化圖，由圖判斷哪一個區間的人口出生率與死亡率差距最大？ (A) 甲 (B) 乙 (C) 丙 (D) 丁。

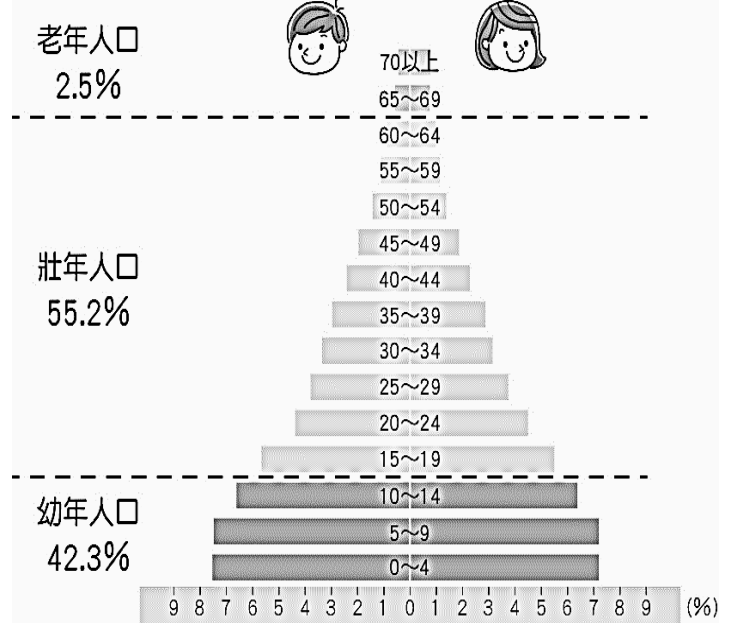


- () 「戰祭」是臺灣原住民的三大祭典之一，有祈求征戰勝利與加強部落團結的深意。請問：這是屬於哪一個原住民族的重要文化活動？ (A) 鄒族 (B) 泰雅族 (C) 阿美族 (D) 排灣族。
- () 圖(四)為臺灣部分原住民族群的祭典與主要分布圖。若按圖片內容判斷，雅美族(達悟族)應為圖中何者？ (A) 甲 (B) 乙 (C) 丙 (D) 丁【109 教育會考】

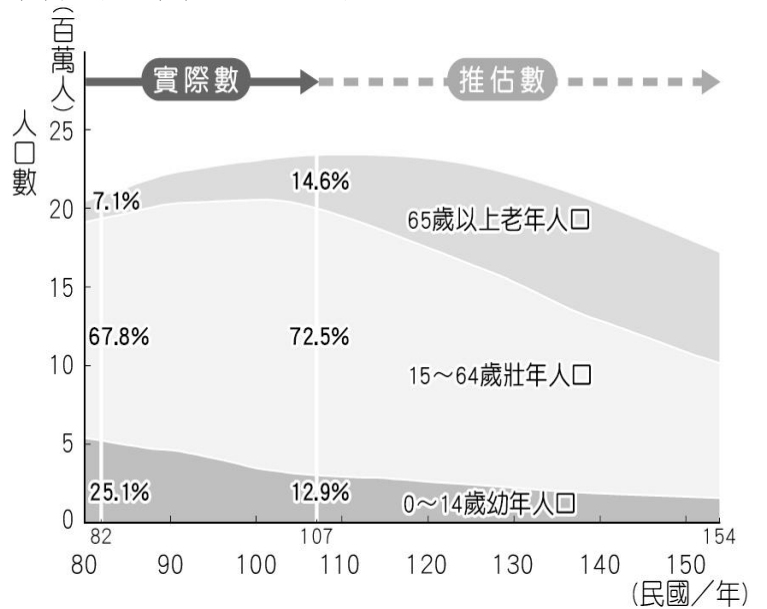


圖(四)

- () 附圖為人口金字塔示意圖，以下相關敘述何者最為正確？ (A) 人口金字塔可以看出一地的社會增加率 (B) 男性的統計資訊位於人口金字塔的左側 (C) 扶養比的資訊無法從人口金字塔中判讀 (D) 人口金字塔無法看出一地人口增加趨勢。

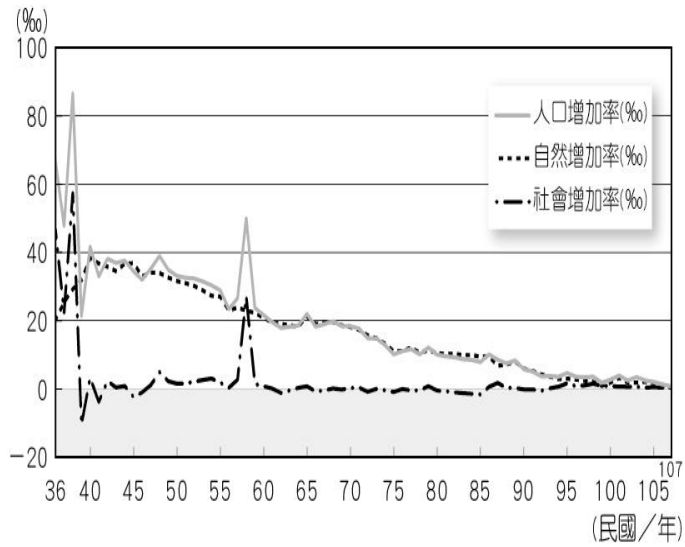


- () 附圖為臺灣人口年齡組成變化圖，請依此圖判斷，為因應臺灣人口結構變化，在未來哪一種職業的需求會愈來愈高？ (A) 長期看護 (B) 金融業務 (C) 警察 (D) 幼稚園教師。

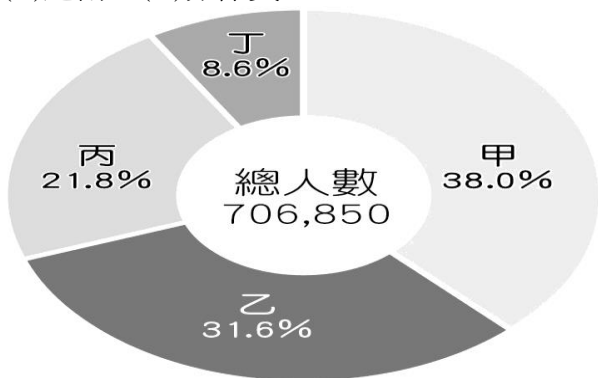


- () 想要表示一個地區的人口年齡組成，用下列哪種圖來表示最清楚？ (A) 金字塔圖 (B) 點子圖 (C) 曲線圖 (D) 圓餅圖。
- () 當社會增加率為正值時，與下列哪個計算結果吻合？ (A) 移入率 - 移出率 > 0 (B) 移出率 - 移入率 > 0 (C) 出生率 - 死亡率 > 0 (D) 死亡率 - 出生率 > 0。

14. () 剛考上大學的馬拉，決定利用暑假到美國進行為期兩個月的打工遊學；此在人口遷移的分類上，應屬於下列何種分類？ (A)暫時、國內遷移 (B)暫時、國際遷移 (C)永久、國內遷移 (D)永久、國際遷移。
15. () 人口移動可分為國內遷移與國際遷移，主要是依據下列哪項因素界定？ (A)遷移的目的 (B)遷移的時間 (C)遷移的頻率 (D)遷移的空間。
16. () 附圖為臺灣的人口成長趨勢圖。由圖中資料可推得臺灣人口增加率下降的主因為何？ (A)自然增加率持續下降 (B)性別比持續上升 (C)移入率持續下降 (D)移出率持續上升。

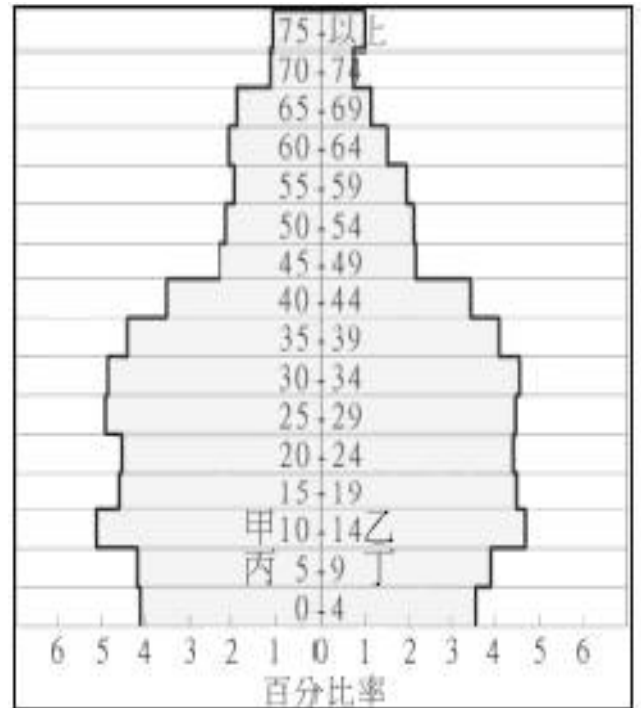


17. () 下列何者為人口增加率的算法？ (A)移入率－移出率 (B)出生率－死亡率 (C)自然增加率＋社會增加率 (D)移入率＋出生率。
18. () 附圖為民國 107 年臺灣的國際移工來源比例圖。圖中甲、乙、丙、丁四國中，以甲國所占比例最高，甲國應是下列哪一個國家？ (A)印尼 (B)泰國 (C)越南 (D)菲律賓。

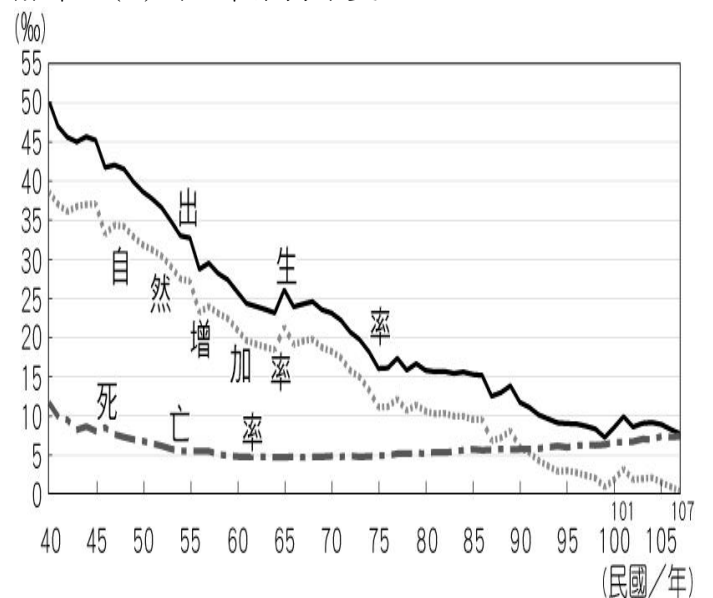


19. () 目前因婚姻關係來臺灣的新移民已超過 50 萬人，政府透過許多方式協助他們適應臺灣社會，例如建置數位資訊平臺，以多國語文的網頁介面，提供數位學習及文化交流的空間。上述多國語文最可能涵括下列何者？ (A)俄羅斯文、德文 (B)越南文、印尼文 (C)阿拉伯文、土耳其文 (D)西班牙文、葡萄牙文。【106 教育會考】
20. () 討論人口遷移時，「促使當地人口向外移出的不利條件」統稱為何？ (A)推力 (B)拉力 (C)移入率 (D)移出率。

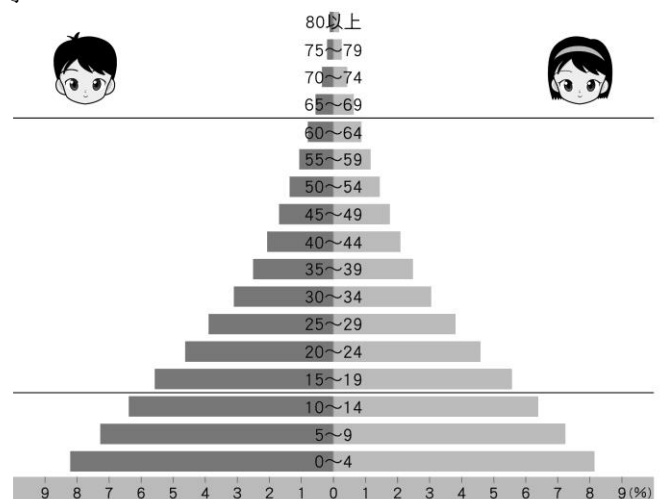
21. () 小傑是民國 82 年 4 月滿 13 足歲的國中男生，當他看到地理課本上民國 82 年的人口金字塔圖時，心想自己也是圖中的一份子。請幫忙找出他在圖中的正確位置為何？ (A)甲 (B)乙 (C)丙 (D)丁



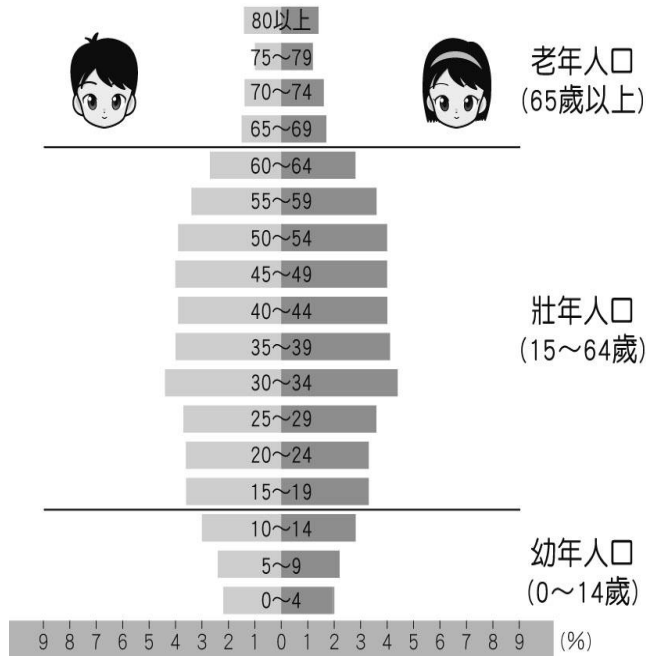
22. () 西元 2018 年笑笑國總人口為 2,000 萬人，該國該年的移入率為 14%，移出率為 3%。預估隔年笑笑國的社會增加人口應有多少萬人？ (A)14 (B)20 (C)22 (D)24。
23. () 附圖為臺灣 60 多年來出生率、死亡率、自然增加率的變化圖，由圖可得知下列哪一項人口資訊？ (A)死亡率呈現逐年下降的趨勢 (B)自然增加率主要受出生率的影響 (C)社會增加率高於自然增加率 (D)出生率維持不變。



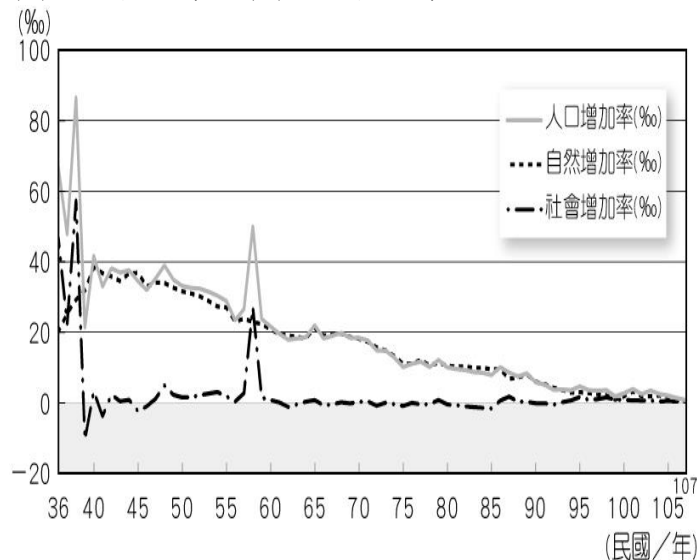
24. () 附圖為樂樂國的人口金字塔圖。有關樂樂國的人口組成敘述，下列何者正確？ (A)平均壽命長 (B)出生率較高 (C)死亡率較低 (D)教育水準相當高。



25. () 附圖為某國的人口金字塔圖。從此圖的人口結構分析，政府應該要加強哪一方面的政策？ (A)延長教育年限，提高國人教育程度 (B)舉辦各項研習活動，增加各國文化交流機會 (C)規畫、設置老人安養機構 (D)積極向國外招商，降低國內失業率。



26. () 從附圖可看出臺灣社會的人口成長，主要受下列何者影響較大？ (A)社會增加率 (B)自然增加率 (C)人口移出率 (D)人口移入率。

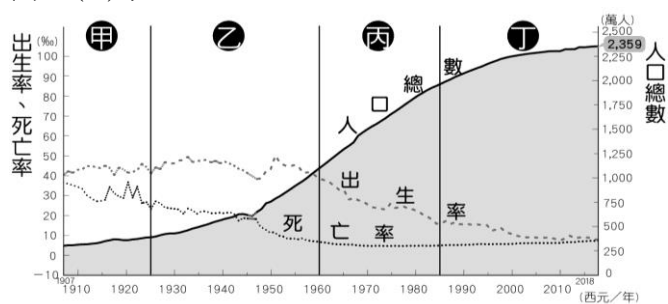


27. () 以下有五位同學正在討論臺灣北部人口較中南部密集的主要原因：

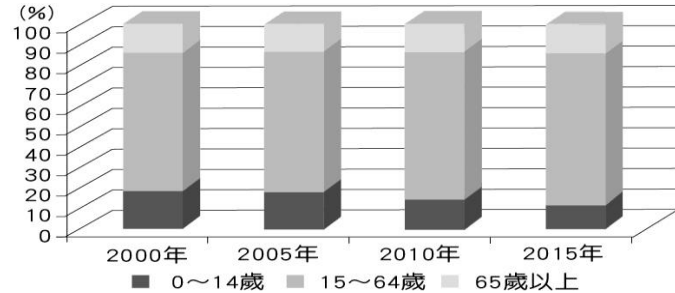
伊美：「北部開發較早。」
 小磊：「北部農業較發達。」
 茜茜：「北部地勢較低平。」
 阿邦：「北部就業機會多。」
 毅源：「北部生活機能較佳。」

上述哪兩個人所言正確？ (A)伊美、小磊 (B)阿邦、毅源 (C)茜茜、毅源 (D)小磊、毅源。

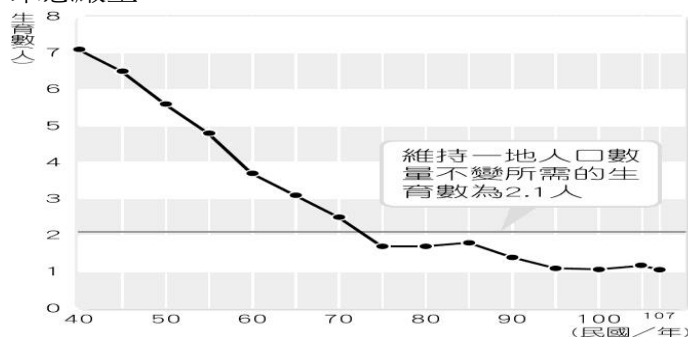
28. () 附圖為臺灣人口成長變化圖，請問圖中人口成長進入停滯期是指哪一個階段？ (A)甲 (B)乙 (C)丙 (D)丁。



29. () 附圖是澎湖縣在西元 2000 年、2005 年、2010 年、2015 年的人口結構比例圖表，依照圖表中資訊判斷，請問關於這 15 年內的變化，下列敘述何者正確？ (A)扶養比變小 (B)男女人口比例平均 (C)出生率及死亡率都呈現逐漸下降的趨勢 (D)青壯年負擔變重。

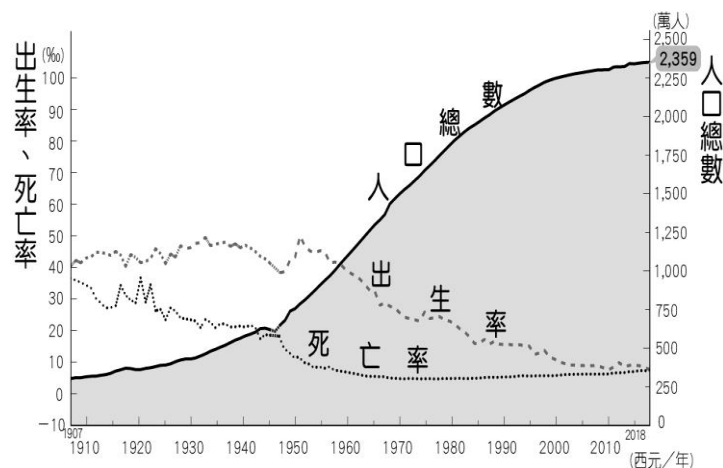


30. () 附圖是臺灣民國 40~107 年的生育率變化圖。若趨勢不變，請問未來 20 年後臺灣的社會最可能出現何種問題？ (A)壯年人口愈來愈多 (B)扶養比開始下降 (C)勞動力人口減少 (D)性別失衡愈來愈嚴重。



31. () 臺灣的族群相當多元，文化也各有特色。我們在面對如此多元的文化，應抱持著何種態度？ (A)井水不犯河水，不要求其他族群了解自身族群的文化，自己也不需去了解其他族群的文化 (B)面對如此多元的文化特色，應抱持著尊重與多元並蓄的胸懷，也去理解其他族群文化內容 (C)在不同的族群當中，必有強勢族群與弱勢族群，這是必然的也不需太在意弱勢群族的處境 (D)雖然國際移工對臺灣的貢獻良多，但因他們踏上臺灣的時間未達百年，算不上臺灣的族群。

32. () (甲)實施「三三二一」政策，出生率降低；(乙)「兩個孩子很幸福，三個孩子更熱鬧」，鼓勵生育；(丙)死亡率開始降低；(丁)人口成長快速恐抵銷經濟成果；(戊)人口成長緩慢，漸趨停滯。附圖為臺灣人口成長變化圖，有關西元 1990 年之後的人口成長特徵與政策，正確敘述共有幾項？ (A)2 項 (B)3 項 (C)4 項 (D)5 項。



33. [少子化]是何現象?對社會有何影響?

- (1)
(2)

