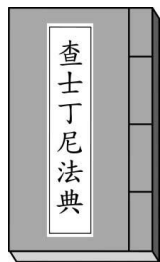


一、單選題:(每題 2.5 分,共 55 分)

- ( ) 1. 古文物學家約翰蒐購了一本書籍如附圖。約翰可從這本書瞭解到哪一帝國的法律概念?  
(A)羅馬帝國 (B)拜占庭帝國 (C)西羅馬帝國  
(D)法蘭克王國




- ( ) 2. 文藝復興時期,在政理論方面,《君王論》一書大量運用歷史典故,闡述統治者的成功之道,摒棄道德議題,以國家利益至上的大膽言論,引來了諸多的爭議與批評。請問:上述《君王論》的作者為何人?  
(A)馬基維利 (B)佩脫拉克 (C)米開朗基羅 (D)薄伽丘。

- ( ) 3. 大衛生活於中古後期的南歐,在佛羅倫斯開了一家香料店,由於所賣的香料價格過於便宜,是別家的三分之一,有人便跑來警告他,要他加入當地同業的商業組織,並且依照組織公定的價格賣香料,否則就不准他開店。請問:這種同業組織在當時稱為什麼?  
(A)教會 (B)行會 (C)郊 (D)商幫

- ( ) 4. 文藝復興時期有一位作家以黑死病的肆虐為背景,描寫佛羅倫斯十個男女青年為躲避傳染病,在鄉間住了十個晚上。每晚輪流說故事,這就是「十日談」的由來。這位作家是誰?  
(A)達文西 (B)但丁 (C)莎士比亞 (D)薄伽丘。

- ( ) 5. 伊斯蘭教是現今世界三大宗教之一。請問:伊斯蘭教的創立者是誰?  
(A)耶穌 (B)穆罕默德 (C)耶和華 (D)釋迦牟尼。

- ( ) 6. 附圖可說是西方的花木蘭,英法百年戰爭初期,法軍節節敗退,由於此人的號召,使得法國最後可以反敗為勝,而該少女被英軍俘虜且以巫女的身分活活燒死後,激起了法國人民的愛國心,終將英軍趕出法國境內。這位西方花木蘭是誰?



(A)瑪麗 (B)貞德 (C)貞子 (D)伊莉莎白


- ( ) 7. 西元八世紀末,某位君主征服各地,建立龐大的帝國,並受到羅馬教宗的加冕,被稱為「羅馬人的皇帝」。這位君主是誰?  
(A)查士丁尼 (B)君士坦丁 (C)屋大維 (D)查理曼。

- ( ) 8. 電影「絕地勇士」在描述一位中世紀的騎士蘭斯洛,如何在領主領地被敵人入侵後,英勇地擊敗敵人,收復領主失土的故事。在電影中,不會看到下列哪個場景?  
(A)蘭斯洛與領主必定有血緣關係 (B)蘭斯洛對領主宣誓效忠 (C)領主出動軍隊保護蘭斯洛的領地 (D)蘭斯洛對領主負擔出征、服勞役、納稅等義務

- ( ) 9. 小亞生活在英國文藝復興時代,當時他在撰寫一本以英國歷史為背景的小說,他會運用下列何種語言進行寫作?  
(A)拉丁語 (B)阿拉伯語 (C)希臘文

(D)英文

- ( ) 10. 小青參加百萬小學堂節目,其中一題題目如附圖,小青應選擇哪個答案才能正確過關?



(A)中國人 (B)阿拉伯人 (C)土耳其人 (D)羅馬人

- ( ) 11. 拜占庭帝國在文化方面對於整個歐洲貢獻甚大,其中對哪個民族的影響最為深遠?

(A)阿拉伯民族 (B)斯拉夫民族 (C)日耳曼民族 (D)土耳其民族

- ( ) 12. 美琪與父母決定參加「新生與再生:走訪文藝復興之源」的旅遊團。附圖中哪個地區會是此行重點?



(A)甲 (B)乙 (C)丙 (D)丁

- ( ) 13. 如君坐著時光機來到西元十五世紀的歐洲旅遊。她先到伊比利半島上的亞拉岡王國觀光,之後再轉到法國遊歷。之後她回到伊比利半島,卻發現亞拉岡王國不見了。該王國變成下列哪個國家?

(A)卡斯提爾 (B)西班牙 (C)葡萄牙 (D)格拉那達

- ( ) 14. 日耳曼民族的遷徙導致西羅馬帝國滅亡,開啟了歐洲史上的中世紀時期。關於這時期的政治發展,下列敘述何者正確?  
(A)鄂圖一世奠定基督教文化在西歐的基礎 (B)神聖羅馬帝國統一西歐,國家強盛,行中央集權制度 (C)諸國中的法蘭克王國勢力最強,對中世紀歷史的影響較大 (D)西哥德王國立足義大利半島,可說是羅馬帝國的承接者。

- ( ) 15. 十三世紀時,發生一場規模非常大的擴張行動,而這次行動除了加強交通往來,也將火藥武器輾轉傳入歐洲,加速了西歐城堡和封建體制的瓦解,這應是下列哪個行動?  
(A)蒙古西征 (B)十字軍東征 (C)阿拉伯人的擴張 (D)日耳曼人的南侵。

- ( ) 16. 近代歐洲文明的興起,扮演關鍵角色的是「市民階級」。下列關於此一階級的說明何者錯誤?  
(A)中世紀後期,因商業復甦而崛起 (B)推動文藝復興的主力 (C)成立行會以保護成員利益 (D)他們是封建制度破壞後的貴族階層。

- ( ) 17. 導致中古後期人口增加的主要原因是什麼?  
(A)農業改良、糧食充足 (B)政局穩定 (C)醫藥發達 (D)十字軍東征

- ( ) 18. 中世紀時,同為基督教信仰的西歐地區及拜占庭帝國,在各方面的發展都不同。關於這兩個地區的比較,下列敘述何者正確?  
(A)西歐為大一統帝國;拜占庭帝國實行封建制度 (B)西歐信仰希臘正教;拜占庭帝國信仰羅馬公教 (C)西歐通行希臘文;拜占庭帝國通行拉丁文 (D)西歐莊園經濟興盛;拜占庭帝國商業發達。

- ( ) 19. 景堯利用假日欣賞一部社會寫實的影片,當中男主角呼籲他的同胞:「阿拉會庇護我們,穆罕默德會

帶領我們回故鄉。」由此判斷，此影片中男主角信仰的宗教是下列哪一個？

(A)道教 (B)伊斯蘭教 (C)佛教 (D)基督教

( )20. 西元 1095 年教宗烏爾班二世作出下列宣告：「……與神隔絕的民族，猛烈地侵犯基督教的領域，燒殺擄掠當地的居民，他們將部分的俘虜帶回自己的國家，又以酷刑將其餘殺害……但願你們先祖查理曼大帝和其餘君主光榮宏偉的功業激勵你們，但願那陷於不潔之民手中的我們救主的聖墓，以及那被玷汙的聖地喚醒你們。」下列相關敘述何者正確？

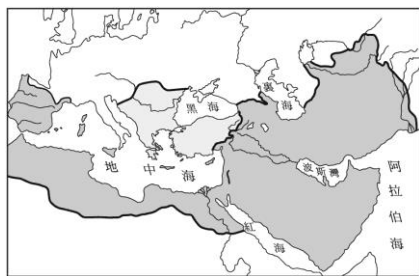
(A)「與神隔絕的民族」是指鄂圖曼土耳其人 (B)查理曼大帝為拜占庭帝國著名的君主 (C)「被玷汙的聖地」位於巴勒斯坦地區 (D)在教宗的激勵下組成的十字軍，每場戰役均獲得空前勝利。

( )21. 梅西是位生活在捷克的斯拉夫民族，他所信仰的教會是古羅馬君士坦丁堡教會，現今則是屬於哪個基督教系統？ (A)天主教 (B)英格蘭教派 (C)東正教 (D)路德教派

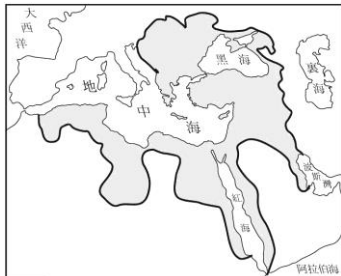
( )22. 小奕認為日耳曼民族進入歐洲，造成古羅馬帝國文化全面消失，但小動提出反駁，認為古羅馬的文化仍然繼續延續。請問：小動反駁的論點，不應該包括下列何者？ (A)教會保存了古典文化 (B)封建領主負起教育工作的全責 (C)中世紀教士抄寫古籍，成為知識的傳播者 (D)阿拉伯人翻譯古希臘、羅馬典籍，為基督教世界保存知識。

二、題組：(每題 2.5 分，共 45 分)

1. 圖(-)、(二)分別是十一及十六世紀兩個不同時代的疆域圖。



圖(-)



圖(二)

( )23. 由圖(-)演變成圖(二)代表哪兩個帝國衰亡？(甲)亞歷山大帝國(乙)羅馬帝國(丙)東羅馬帝國(丁)阿拉伯帝國 (A)甲乙 (B)乙丙 (C)甲丁 (D)丙丁

( )24. 由圖(-)演變成圖(二)代表哪一個帝國的興盛？

(A)羅馬帝國 (B)阿拉伯帝國  
(C)拜占庭帝國 (D)鄂圖曼土耳其帝國

2. 天方夜譚(又稱一千零一夜)是阿拉伯人的著名故事集。其中有一則「阿里巴巴和四十大盜」，講述阿里巴巴用智慧打敗沙漠盜賊和巫師，最後贏得財富和美人的故事。請問：

( )25. 信奉伊斯蘭教的阿里巴巴，我們可以如何稱呼他呢？ (A)婆羅門 (B)阿拉 (C)伊斯蘭 (D)穆斯林

( )26. 阿里巴巴即使在冒險生活中，仍要信守伊斯蘭教哪個教規？ (A)信奉唯一的真神 (B)遵從教宗的指示 (C)膜拜耶和華的畫像 (D)每天至少頌讀舊約一遍

3. 中古時期，歐洲出現這類的疾病：「從發病到死亡只有幾個小時的差距，即使是醫生亦束手無策，虔誠的教士亦無法免除。面對如此重大的災難，有些人選擇毫無顧忌地享受世界的歡樂，有些人則是選擇在恐懼中不停禱告。嘗試逃離災難者，在逃亡的過程中亦散播疾病。」

( )27. 上文所敘述的重大疾病，最有可能是下列何者？

(A)新冠病毒 (B)黑死病 (C)愛滋病 (D)肺結核

( )28. 該疾病是經由何種途徑傳入歐洲，並造成傳染流行？ (A)亞歷山大東征 (B)商貿往來 (C)美洲移民 (D)十字軍運動

4. 阿龍是一位歷史學系的碩士班學生，他的論文題目是「中世紀歐洲人民的宗教信仰與日常生活」，請問：

( )29. 阿龍的論文內容，是以研究下列哪個宗教為主？

(A)伊斯蘭教 (B)佛教 (C)婆羅門教 (D)基督教

( )30. 承上題，論文中所提到的中世紀歐洲人民，其生活周遭的日常用品，可由哪個地方獲得？ (A)莊園主的莊園 (B)鄉間市集 (C)大城市 (D)由國外進口

5. 拜占庭帝國延續羅馬帝國的光輝，並繼承希臘的傳統，倚靠著君士坦丁堡的地理優勢，國祚持續至十五世紀。請回答下列問題：

( )31. (甲)使用拉丁文 (乙)政教合一 (丙)信仰羅馬公教 (丁)政治為中央集權。上述哪幾項屬於拜占庭帝國的特色？ (A)甲乙 (B)乙丁 (C)甲丙 (D)丙丁。

( )32. 拜占庭帝國內的哪一棟建築物，以金、銀、鑲嵌畫作為裝飾，成為其境內建築的代表？ (A)萬神殿 (B)米蘭大教堂 (C)帕德嫩神廟 (D)聖索菲亞大教堂

( )33. 拜占庭帝國的宗教有其延續與創新的一面，下列對於其宗教信仰的敘述何者正確？ (A)信仰猶太教 (B)以皇帝為宗教領袖 (C)皇帝須接受羅馬教宗的加冕 (D)其信仰的希臘正教又稱為「天主教」。

6. 小琳趁空閒時與朋友自助旅行前往義大利度假，旅遊中觀賞許多經典的藝術作品，令他大開眼界。請回答下列問題：

( )34. 小琳與朋友來到著名的〈蒙娜麗莎〉前，佇足許久。這幅作品的完成者是誰？ (A)達文西 (B)薄伽丘 (C)米開朗基羅 (D)拉斐爾。

( )35. 小琳也來到著名的米蘭大教堂頂端欣賞風景，她發現這裡是文藝復興發源地之一。當時的米蘭有什麼條件能夠助長文藝復興的發展？(A)寧靜安祥的田園城鎮，使希臘、羅馬古籍得以保存 (B)軍事重鎮，捍衛文化發展 (C)位於貿易要衝，同時商業繁盛，助長精緻文化的推廣 (D)宗教聖地，促使傳教速度加快

( )36. 小琳看了許多藝術品之後，該時期不管在文學、藝術的風格上，多是偏重在哪個層面，也影響近代歐洲的發展？ (A)人文主義 (B)神權主義 (C)浪漫思想 (D)革命風潮。

7. 這個國家位於歐洲大陸南端。十五世紀之後，逐漸發展成為王權國家，之後因為向海外擴展，成為海上強國。此國北接法國，南部通過直布羅陀海峽與非洲大陸隔海相望，西邊與□□接壤，東鄰美麗的地中海，自古以來都是軍事戰略要地。因此在漫長歷史長河中，這個國家屢次被其他民族征服、入侵，例如：腓尼基人、羅馬人和伊斯蘭勢力，先後在這裡留下自己民族文化烙印。請回答下列問題：

( )37. 根據文中地理位置的敘述，這個國家應位於下列何處？ (A)義大利半島 (B)阿拉伯半島 (C)巴爾幹半島 (D)伊比利半島。

( )38. 文中提及□□，應填入下列何者最適當？ (A)英國 (B)葡萄牙 (C)匈牙利 (D)土耳其。

( )39. 這個國家早期曾經受到伊斯蘭勢力入侵，而這股伊斯蘭勢力應是指由下列哪個民族所建立的帝國？

(A)阿拉伯人 (B)法蘭克人 (C)塞爾柱土耳其人 (D)鄂圖曼土耳其人。

( )40. 這個國家指的是今日哪個國家？ (A)西班牙 (B)土耳其 (C)荷蘭 (D)義大利。