

花蓮縣立美崙國中 109 學年度第一學期七年級第二次段考社會領域歷史科試卷

※請將答案劃記於電腦答案卡 科目代號：13

七年 _____ 班 _____ 號 姓名：_____

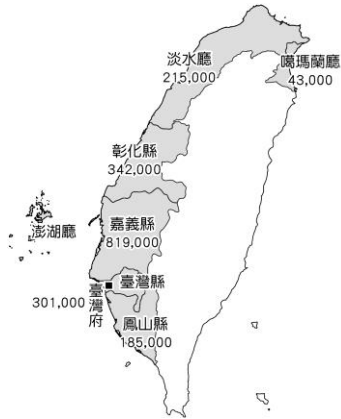
一、選擇：84%(每題 3 分)

- () ◎荷蘭治臺時期，因為當時原住民沒有文字，所以荷人利用羅馬字母拼寫原住民語言。請問：此舉最重要的目的為何？ (A)為了貿易往來的需要 (B)為了發揚原住民文化 (C)為了方便傳布基督教 (D)為了讓原住民學習中國文化。
- () ◎在荷蘭、西班牙、鄭氏政權統治的範圍內，原住民的生活及文化都受到很大的衝擊。在原漢不斷的衝突中，原住民爆發了多次的抗官事件，例如：鄭氏在臺時期，曾有中部原住民族以武力反抗其統治。請問：這是指哪一個原住民族群？ (A)新港社 (B)馬賽人 (C)麻荳社 (D)大肚王國。
- () 西元 1874 年日軍派兵攻臺，造成許多原住民的傷亡。請問：這一歷史事件為下列何者？ (A)郭懷一事件 (B)林爽文事件 (C)牡丹社事件 (D)朱一貴事件。
- () ◎清廷將臺灣納入版圖之後，設置臺灣府以為管理。請問：當時臺灣府是隸屬於哪一行政單位管轄？ (A)福建省 (B)臺灣省 (C)廣東省 (D)直隸省。
- () ◎西元 2018 年底，政府推出「暖冬旅遊補助」，主要是為了振興各地的觀光產業，包括景致宜人的「後山」地區。最早由官方主導修築通往「後山」(東部地區)的三條道路，並且廢除劃界封山政策，是在下列何人的主導下？ (A)施琅 (B)沈有容 (C)陳永華 (D)沈葆楨。
- () 沈葆楨曾經大膽建言，朝廷無須將鄭氏政權以叛賊視之，而應肯定其對臺的建設成果。請問：沈葆楨是在哪一個事件之後來臺展開防務工作，而對南臺灣有了進一步的了解？ (A)朱一貴事件 (B)林爽文事件 (C)郭懷一事件 (D)牡丹社事件。
- () ◎清廷在牡丹社事件的交涉條約中，承認日本出兵是「保民義舉」，日本藉此積極展開對哪個地方的掌控？ (A)臺灣 (B)琉球 (C)越南 (D)朝鮮。
- () ◎清政府派施琅平定臺灣後，朝廷官員曾為了臺灣的哪一個議題爭論不休？ (A)臺灣原住民統治政策 (B)臺灣主權歸屬 (C)臺灣漢原衝突 (D)臺灣棄留問題。
- () 重修臺灣縣志記載：「客頭夥同不肖船家，用溼漏小船載運數百人，並讓他們全擠入艙中，將艙蓋封釘，不讓這些人出來。船隻乘著黑夜出洋，若遇到大風浪，可能會船翻人亡。快到岸時，擔心被人發覺，因此靠近沙岸時，就會將人群趕下船，稱為『放生』」。這段敘述描述的是哪一歷史情景？ (A)移民偷渡過程相當困難且危險重重 (B)移民來臺普遍出現拋妻棄子的行為 (C)渡臺禁令導致臺灣的性別比例失衡 (D)清廷消極管理使臺灣社會動盪不安
- () 清朝統治臺灣初期，曾明令禁止男子攜眷來臺，其後朝廷為了積極建設，取消該項限制。此項禁令的取消，對日後臺灣發展帶來什麼樣的影響？ (A)人口擴增，拓墾加速 (B)族群械鬥，日趨激烈 (C)性別失衡，男多於女 (D)漢人活動範圍受限制。
【94 基本學測二】
- () ◎荷蘭人在臺期間，對原住民展開教化。其中所設立的學校，是以何者作為教材內容？ (A)三字經 (B)唐詩宋詞 (C)中文小說 (D)基督教義。
- () 文玲到宜蘭遊玩時，發現宜蘭縣礁溪鄉的圓山公園內，有一座吳沙紀念公園，在宜蘭縣內還有「吳沙國民中學」。請問：吳沙留下什麼事蹟讓後人緬懷？ (A)劃定漢原界線 (B)頒布渡臺禁令 (C)開墾宜蘭地區 (D)主張保留臺灣。
- () ◎位在淡水的滬尾炮臺公園，每年十月都會演出大型戶外戲劇「西仔反傳說」。請問：「西仔反」是指歷史上的哪一場戰役？ (A)鄭成功攻臺之役 (B)清法戰爭 (C)施琅攻臺戰役 (D)牡丹社事件。
- () ◎臺灣歷史上有一段時期，島內的最高統治者被稱為「駐臺長官」，其經濟的治理方針，是將臺灣發展成國際貿易轉運站。為了便於管理原住民部落，他們透過部落長老維持秩序。請問：這個時期的臺灣，最高統治者是哪國人？ (A)葡萄牙人 (B)荷蘭人 (C)西班牙人 (D)日本人。
- () ◎臺北捷運淡水線有一站叫做石碑站，石碑的名稱由來，據說與清廷在漢人的生活區域立碑為界有關，當時清政府立碑的原因為何？ (A)紀念漢人的開墾貢獻 (B)確立貿易界線 (C)避免漢原衝突 (D)作為反抗暴政的紀念。
- () ◎在人類學的調查中，發現許多部落社會，常以「游耕」方式維持生活。請問：這種耕作方式具有下列何種特色？ (A)已知道灌溉，所以可以大量栽種水稻 (B)可以在一個地點長期耕作，保持土地肥力 (C)此耕作方式經常需要更換耕作地，連帶居住部落可能也要遷徙 (D)屬於一種較為進步的耕作方式，生產力極高。
- () 清廷平定臺灣後，大臣對於要不要將臺灣納入版圖，看法相當分歧。最後，康熙皇帝做出裁決，他的決定為何？ (A)臺灣戰略價值高，可為東南屏障，故應保留 (B)臺灣經濟價值高，可增加財政收入，故應保留 (C)臺灣地處偏遠，開發不易，故應放棄 (D)臺灣人民兇悍，管理不易，故應放棄。【90 基測樣本一】
- () ◎清末名將劉銘傳，曾參與平定太平天國、捻亂等多次戰役，而後奉命來臺灣策畫防務，以抵禦哪一個國家的入侵？ (A)日本 (B)法國 (C)荷蘭 (D)西班牙。【90 基測樣本一】
- () ◎蕭寶貴是清代廣西人，雍正 5 年自家鄉移民到今臺灣高雄，他可能入籍下列哪個地方行政區？ (A)臺灣縣 (B)鳳山縣 (C)嘉義縣 (D)淡水廳。
- () 元翰在書上看到一段史料，如附圖所示。請問：當時西班牙人在雞籠一帶傳布的是何種宗教？ (A)基督教 (B)天主教 (C)伊斯蘭教 (D)佛教。

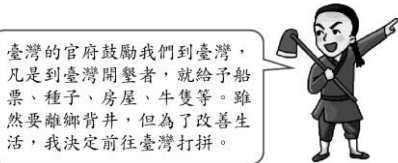
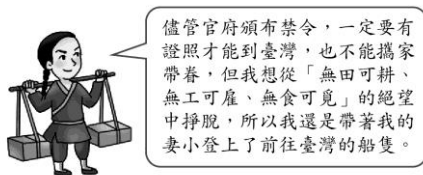
西元 1630 年，馬尼拉總督向西班牙國王報告說：三年傳教，只在雞籠一處，受洗禮者有三百人。

- () 光緒年間，清、法兩國開戰，波及基隆、淡水、澎湖，使清廷更加重視臺灣，於是提升臺灣的行政層級，宣布臺灣建省。請問：下列何者為首任巡撫？ (A)劉銘傳 (B)沈葆楨 (C)顏思齊 (D)陳永華。

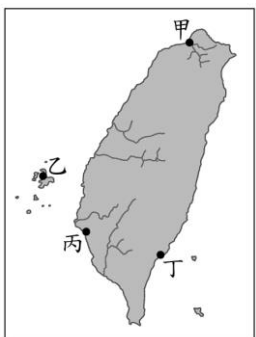
22. () ◎清廷平定臺灣後，施琅曾力排眾議，建議朝廷無論如何都應保住臺灣。施琅的意見，主要是從哪一個觀點來強調臺灣的重要性？ (A)文化 (B)交通 (C)國防 (D)外交。【90 基測樣本二】
23. () 附圖為某學者對嘉慶 17 年(西元 1812 年)臺灣人口的研究統計。圖中的人口數字具有何種意義？



- (A) 東部開發早於西部 (B) 淡水廳人口移入最早 (C) 噶瑪蘭廳人口移入最晚 (D) 土地拓墾方向由北向南。
24. () ◎由於哪一個事件的發生，使得清廷檢討治臺政策，並在雍正時期，將臺灣的行政區劃轉變為「一府四縣兩廳」的局面？ (A)施琅攻臺 (B)番界往山區退縮 (C)鄭成功退守臺灣 (D)朱一貴事件。
25. () 下列是兩位同名同姓者的自我描述，因出生年代的不同而造就不同的命運。請問：造成這樣不同情形轉變的關鍵和何人有關？



- (A)陳永華 (B)沈葆楨 (C)吳沙 (D)顏思齊。
26. () ◎清德宗在位期間，中國曾為了某個屬國而與法國開戰，基隆、澎湖等地區受到戰火的波及，臺灣也遭到法軍封鎖一段時間，直到雙方達成和解為止。前述「屬國」為何？ (A)朝鮮 (B)越南 (C)緬甸 (D)琉球。
27. () 以下是一段十七世紀的文獻記載：「西班牙人每年向該地的已婚原住民課徵二隻雞和三甘當米的稅，原住民感到無法忍受，所以襲擊該地的西班牙城堡，殺了三十個西班牙人。」此段記載最可能是描繪附圖中何處的情況？ 甘當：一種量米的容器。
- (A)甲 (B)乙 (C)丙 (D)丁。【104 教育會考】



28. () ◎清帝國時期臺灣行政區劃的轉變，舉凡廳、縣的增加，多與下列何項因素有關？ (A)國防與社會治安問題 (B)經濟活動的轉變 (C)原住民土地買

賣的問題 (D)械鬥與反清事件的日漸減少。

二、題組：12%(每題 2 分)

※以下為清朝後期四名官員聯合上奏的部分內容：由於去年倭人假借報仇之名，企圖占領臺地，朝廷不得已而有開山撫番的措施。……眾人皆以為開山是為了撫番，卻不知今日撫番的主要目的，在於防止來自海上的侵犯。且臺灣位處要地，天氣暖和，物產豐富。近來有洋人往來番地，遊歷傳教、描繪山川地形，朝廷若不將後山一帶收歸治理，必遭外敵侵入，恐演變成無法收拾的局面。【100 基本學測二】

後山：指臺灣東部。

29. () ◎(1)上文提及「去年倭人企圖占領臺地」，其發生原因與下列何者有關？ (A)牡丹社事件 (B)林爽文事件 (C)霧社事件 (D)郭懷一事件。
30. () ◎上述奏議的主旨，最可能是下列何者？ (A)上奏倭人已占領臺灣後山，建議朝廷應當出兵以收復失土 (B)說明倭人與洋人聯手侵臺，假借傳教之名，已經攻陷番地 (C)強調開山撫番重要性，認為加強治理臺灣才能防外力入侵 (D)觀察洋人在臺活動情形，建議朝廷應全面開港與外國通商。

※這是十七世紀時，鄭成功與某個歐洲國家簽訂的文件，請根據內容回答下列問題：

1. 雙方都要把所造成的一切仇恨遺忘。
2. 熱蘭遮城及其城外的工事、大炮及其他武器，糧食、商品、貨幣及所有其他物品，凡屬於……公司的都要交給國姓爺。
3. 這政府全部文件簿記，現在都得以帶往巴達維亞。

31. () ◎從文件提到「巴達維亞」推斷，此文件簽署者應是來自哪個國家？ (A)西班牙 (B)日本 (C)英國 (D)荷蘭。
32. () ◎此公司來到臺灣後，輸出臺灣的哪些物品？ (A)茶葉、蔗糖、樟腦 (B)鴉片、紡織品 (C)軍火、布料 (D)稻米、蔗糖、鹿皮。
- ※史載劉銘傳於臺灣開辦「西學堂」期間，不僅聘任洋人教席指導英文、法文、數學、測量等科目，且每半年舉行一次檢定考試，督促學生認真學習，劉銘傳的兒子也是學員之一。請問：
33. () 從上述的說明中判斷，劉銘傳是在下列哪一事件後來臺從事防禦和建設？ (A)清法戰爭 (B)英法聯軍 (C)施琅攻臺 (D)日軍侵臺。
34. () 劉銘傳的諸多建設，使得臺灣成為當時清帝國最具現代化的省分，有關這段時期的歷史，下列敘述何者錯誤？ (A)臺灣已有鐵路建設 (B)廢除劃界封山政策 (C)嚴格實施渡臺禁令 (D)電報學堂培養人才。

三、配合題：4%(每題 2 分)

※請選擇正確相關的答案代號，填入各題相對應的空格中。

A. 牡丹社事件 B. 1884 年 C. 1894 年 D. 英法聯軍

35. () 清法戰爭發生在何時？
36. () 導致台灣開港通商的原因？