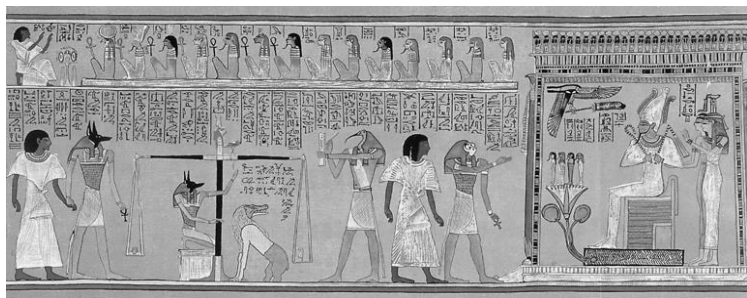


一、單選題：(每題 3 分，共 60 分)

- () 1. 「上古時代，有一個民族在夜晚依著星星辨識方向而不會迷途，他們的商船往來於地中海各地，掌握地中海的商業和霸權。」請問：這是指哪一民族？ (A)希伯來人 (B)埃及人 (C)腓尼基人 (D)亞述人
- () 2. 他是哲學家、數學家也是物理學家，他確定了許多物體表面積和體積的計算方法，也發現了槓桿原理和浮力定律。請問：「他」是下列何者？ (A)希羅多德 (B)亞里斯多德 (C)歐幾里德 (D)阿基米德。
- () 3. 某演講會時，主講人展示附圖的图片。這是埃及死後審判的繪畫。請問：善人最後會被帶到哪位神明面前，獲得重生的機會？(A)太陽神 (B)耶和華 (C)尼羅河神 (D)宙斯



- () 4. 兩千多年前，有一個民族已經在法典上明定：「在未確認一個人有罪之前，應視他為無罪」的先進法律觀念。這是指哪個民族？ (A)希臘人 (B)巴比倫人 (C)蘇美人 (D)羅馬人。
- () 5. 小芳到羅馬旅行，想參觀一座最能表現當地的古老藝術風格之美的建築物。請問：小芳應該參觀哪一座建築物，才會覺得值回票價？
(A)帕德嫩神廟 (B)圓形競技場 (C)地下水道 (D)底比斯神廟
- () 6. 西元 379 年這位君王即位後，開始禁止其他宗教，並於西元 392 年正式定基督教為國教，之後更下令禁止一切非基督教的宗教活動，使基督教成為羅馬帝國名副其實的國教。請問：這位君王是下列何人？
(A)屋大維 (B)阿育王 (C)狄奧多西 (D)君士坦丁。
- () 7. 居住在伊朗高原上的波斯人，於西元前六世紀建立橫跨歐、亞、非三洲的大帝國。他們信仰的宗教相信世界存在善、惡兩股勢力，在世界末日來臨前，善神會戰勝惡神。請問：波斯人的宗教信仰為何？
(A)猶太教 (B)婆羅門教 (C)佛教 (D)祆教。
- () 8. 娜美的歷史期末報告以希臘時代的著名人物為主題，報告中的關鍵字有「希臘三哲人」、「雅典學園」、「理想國」。請問：報告中的主角是何人？ (A)荷馬 (B)希羅多德 (C)柏拉圖 (D)亞歷山大。
- () 9. 羅馬開始向外積極擴展勢力，並成為橫跨歐、亞、非三洲的大國，開始於其歷史發展的哪個時期？
(A)共和時期 (B)城邦時期 (C)王政時期 (D)帝國時期
- () 10. 今日計算時間的六十進位法，是源自哪一民族的發明？ (A)亞述人 (B)埃及人 (C)蘇美人 (D)巴比倫人



圖一



圖二



圖三

- () 11. 世民是位電視臺記者，最近他被派往附圖一中的甲地採訪新聞，並傳回一段訪問當地民眾的影片，影片中民眾受訪後回答的內容，最可能為下列何者？ (A)我所住的貧民窟，因出土法老王的石刻雕像，遊客增加很多 (B)因為伊斯蘭國軍隊來犯，我被迫前往底格里斯河東岸避難 (C)我的出身是婆羅門階級，也是種姓制度的最高階級 (D)我爺爺在敦煌莫高窟修了六十年壁畫，我要接續爺爺的工作
- () 12. 附圖二中的甲、乙、丙、丁代表四個上古時期西亞及鄰近地區的民族。請問：關於這些民族的敘述，下列何者正確？ (A)甲為西臺，擅長冶鐵 (B)乙是波斯，建立橫跨三洲的大帝國 (C)丙是希伯來，建立一神信仰 (D)丁是埃及，以興建金字塔著名。
- () 13. 小春暑假時到某個國家旅遊，除了感受當地的風土人情外，也參觀了如圖三的巨大建築。請問：小春該如何跟朋友介紹這個建築最適當？(A)西亞人存放食物的穀倉 (B)埃及法老死後的陵寢 (C)亞述人建造的浮雕 (D)印度人戰勝的紀念碑

- ()14. 啟仁平常喜歡捉弄小動物，啟仁的祖母看到了，常常對他說：「這樣欺負小動物以後會有報應的，應該多多愛護小動物。」請問：啟仁的祖母有這樣的觀念，應與下列哪個宗教有關？ (A) 祆教 (B) 伊斯蘭教 (C) 基督教 (D) 佛教。
- ()15. 阿杜是出生在阿利安人統治下的奴隸青年，在多次國家對外的戰爭中，阿杜憑藉著過人的智慧，使貴族打贏了好幾次決定性的戰役，頗受貴族的賞視。之後阿杜結婚生子，他新出生的小孩子屬於哪個階層的身分？ (A) 祭司 (B) 武士 (C) 平民 (D) 奴隸
- ()16. 小康將演出一部話劇，他的角色是歷史上著名的「阿育王」。請問：為了符合史實，下列何者最有可能是小康在劇中的臺詞？ (A) 征服波斯後，我要把偉大的西亞文化推廣到各地 (B) 我下令動員人力，在巴比倫興建新都城 (C) 我派遣使者，到各地宣揚釋迦牟尼的教義 (D) 每個埃及人在死後都必須接受我的審判。
- ()17. 現今通用的阿拉伯數字，許多人以為是阿拉伯人所發明，其實「零」的觀念與數字系統最早應是由哪一個地區的人民所創造，後來才輾轉傳到西方？ (A) 印度 (B) 西亞 (C) 中國 (D) 埃及。
- ()18. 亞歷山大在征服的地區內建立希臘式城市，移植城邦體制和生活方式。下列哪一個區域不會出現這樣的城市？ (A) 兩河流域 (B) 恆河流域 (C) 尼羅河流域 (D) 希臘半島。
- ()19. 歐幾里德在亞歷山大港教書並度過一生，致力於科學的研究，其著作被認為是史上最成功的教科書。請問：關於歐幾里德的生平，下列何者錯誤？ (A) 他生活在希臘化時期 (B) 他提出槓桿、浮力等原理 (C) 他著有《幾何原本》，至今仍為幾何學的權威作品 (D) 利瑪竇曾與徐光啟將他的名著翻譯成中文。
- ()20. 希伯來人早期的歷史傳說中，如摩西率領族人出埃及，自稱為耶和華的選民，並到達耶和華的「應許之地」的故事，可能收錄於哪裡？ (A) 《舊約聖經》 (B) 《漢摩拉比法典》 (C) 《新約聖經》 (D) 《十二表法》

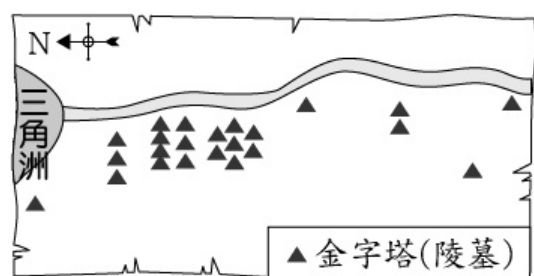
二、題組：(每題 2 分，共 40 分)

1. 小君正在閱讀某本人物傳記，傳記的內容如下：

「西元前 336 年其父親腓力二世遭到刺殺後，年僅 20 多歲的他便繼位為國王。上任後他不斷對外征戰，西元前 334 年，他率兵向波斯進軍，之後又陸續征服了小亞細亞、地中海東岸、埃及、美索不達米亞等地，建立起一個橫跨歐、亞、非三洲的大帝國。但沒想到在回師的途中染上熱病，於西元前 323 年去世。他最大的貢獻，是統治期間在各地建立起希臘式的城市，將各地的文化融合成一股新的文化內涵。」

- ()21. 小君正在閱讀的書籍，應該是有關下列何人的傳記作品？ (A) 亞歷山大 (B) 屋大維 (C) 君士坦丁 (D) 凱撒。
- ()22. 由傳記內容可知，此人曾在各地建立起希臘式的城市，使各地的文化逐漸融合成新的文化內涵。請問：後人如何稱呼這種「新的文化內涵」？ (A) 西亞文化 (B) 希臘文化 (C) 羅馬文化 (D) 希臘化文化。
- ()23. 由文中可知，「新的文化內涵」應該是由哪些地區的文化融合而成？ (A) 印度、西亞、希臘 (B) 羅馬、希臘、波斯 (C) 希臘、西亞、埃及 (D) 希臘、波斯、印度。

2. 附圖是某個古文明金字塔群位置示意圖。從圖中可以發現，河流將土地一分為二，城市與金字塔分隔河流兩岸，如日出與日落的方位，象徵生命的開始與結束。請回答下列問題：



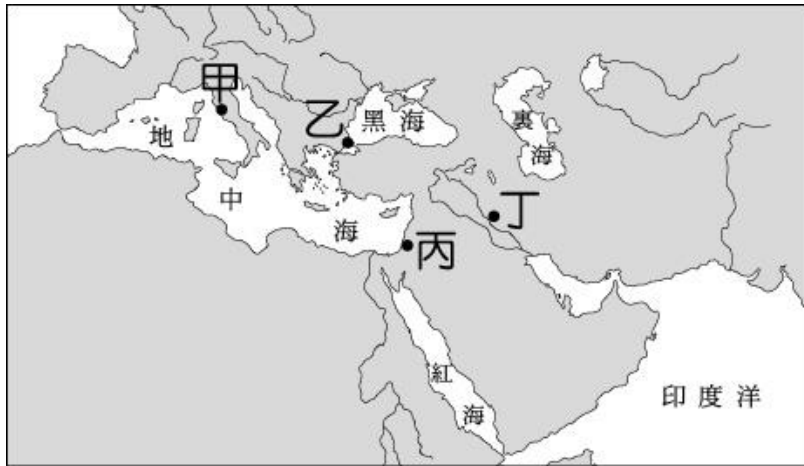
- ()24. 根據圖中的方位顯示，金字塔是位於河流的哪個方向？ (A) 東方 (B) 南方 (C) 西方 (D) 北方。
- ()25. 圖中這條河流，應指下列何者？ (A) 恆河 (B) 印度河 (C) 尼羅河 (D) 底格里斯河。
- ()26. 這個古文明位於世界的哪個地區？ (A) 東亞 (B) 歐洲 (C) 非洲 (D) 西亞。
- ()27. 如要介紹這個古文明的特色，可以用下列何者來說明？ (A) 發明楔形文字 (B) 製作木乃伊 (C) 發現零的觀念 (D) 創立崇拜光明的祆教。

3. 請閱讀短文，並回答下列問題：

原始巨人死後，天神用祂的嘴造出了祭司，用雙臂造成了貴族，用雙腿創造了平民，用雙腳生成了奴隸。僧侶還宣揚：凡是循規蹈矩、安分守己的人，來世才能升為較高等，否則，即降為較低等。

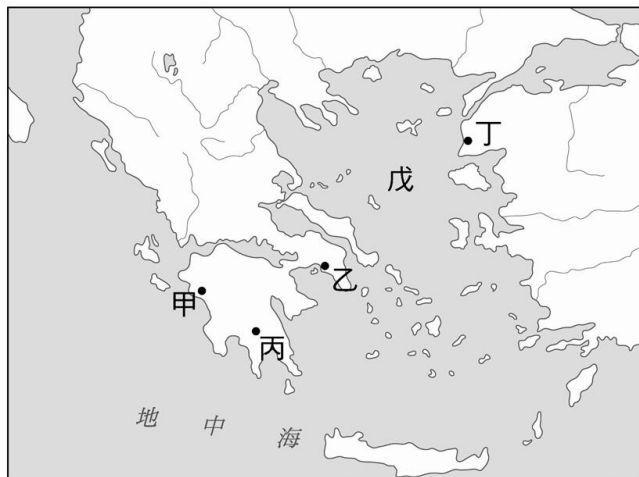
- ()28. 由上述資料內容來看，這應該是描述何種宗教的教義？ (A) 猶太教 (B) 佛教 (C) 祆教 (D) 婆羅門教。
- ()29. 由上述短文的内容加以判斷，這個地區最可能流行下列何種觀念？ (A) 眾生平等，超脫輪迴 (B) 宇宙間僅有唯一的真神 (C) 因果輪迴的果報觀念 (D) 統治者為神的代理人。
- ()30. 這則神話與下列何種制度的關係最密切？ (A) 禪讓制度 (B) 禮樂制度 (C) 種姓制度 (D) 宗法制度。
- ()31. 由短文内容加以判斷，這樣的故事最有可能流行在下列哪個地區？ (A) 西亞 (B) 埃及 (C) 中國 (D) 印度。

4. 他三十歲開始傳播福音，並改革猶太教，將其教義傳播至各地。他得到人們支持後，卻遭他人忌恨，竟被某位門徒出賣，被統治者處以釘十字架的死刑。他死後三天復活，最後升天，證明他的確是神的兒子，人的救主。他的門徒四處傳揚他為救主的福音，在各城市建立教會。有一位受到感召的年輕猶太人保羅加入此教，並整理出他所傳的教義，與其他使徒共同完成該教經典。請回答下列問題：



- ()32. 文中提及的「他」，最早應在附圖中的何處傳播福音？ (A)甲 (B)乙 (C)丙 (D)丁。
- ()33. 將他處以釘十字架死刑的人，應是下列哪個政權的統治者？ (A)亞歷山大帝國 (B)羅馬帝國 (C)亞述帝國 (D)波斯帝國。
- ()34. 保羅與其他使徒完成的宗教經典，應是下列何者？ (A)《舊約聖經》 (B)《古蘭經》 (C)《吠陀經》 (D)《新約聖經》。
- ()35. 文中的主角「他」應是何人？ (A)阿育王 (B)耶和華 (C)耶穌 (D)釋迦牟尼。

5. 附圖為希臘文明的發源地，請依圖回答下列問題：



- ()36. 著名的特洛伊木馬屠城記發生在圖中何處？ (A)甲 (B)乙 (C)丙 (D)丁。
- ()37. 戊在希臘歷史扮演重要的角色，請問她的名稱為何？ (A)黑海 (B)裏海 (C)愛琴海 (D)南海。
- ()38. 實施軍國主義的城邦——斯巴達位於圖中的何處？ (A)甲 (B)乙 (C)丙 (D)丁。
- ()39. 哪裡發展出世界上最早的民主政治？ (A)甲 (B)乙 (C)丙 (D)丁。
- ()40. 帕德嫩神廟位於何處？ (A)甲 (B)乙 (C)丙 (D)丁。