

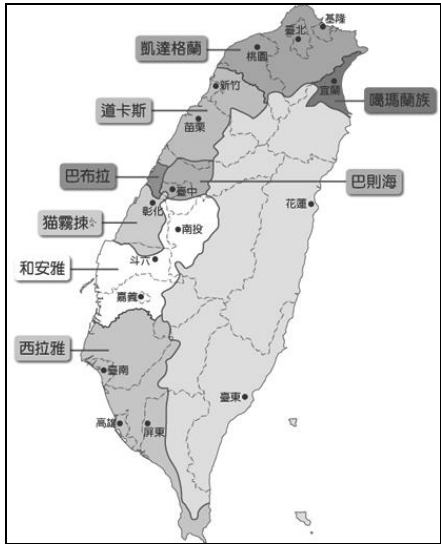
花蓮縣立美崙國中 109 學年度第一學期七年級第一次段考社會領域歷史科試卷

※請將答案劃記於電腦答案卡 科目代號：13

七年 _____ 班 _____ 號 姓名：_____

一、選擇：48%(每題 3 分)

- () 下列哪一個文化遺址，是臺灣目前發現最古老的文化？ (A)長濱文化 (B)圓山文化 (C)大坌坑文化 (D)卑南文化。
- () 臺灣的歷史發展過程中，何人在這裡建立第一個漢人政權，並將漢人文化移入臺灣？ (A)鄭芝龍 (B)鄭成功 (C)鄭經 (D)鄭克塽。
- () 阿欣老師帶領學生去參訪一個文化遺址，發現這個遺址的特色是出土了大量的貝殼。請問：阿欣老師帶學生參訪的遺址最有可能為何？ (A)大坌坑文化 (B)圓山文化 (C)卑南文化 (D)十三行文化。
- () 下列哪一個名稱是十六世紀日本人對臺灣的稱呼？ (A)福爾摩沙 (B)小琉球 (C)高砂國 (D)大員。
- () 附圖是臺灣十七世紀某族群的分布圖，此族群自日治時代曾有另一名稱，與其他原住民有所區別。請問：這是指當時哪個族群分類名稱？ (A)生番 (B)山地同胞 (C)高砂族 (D)平埔族。

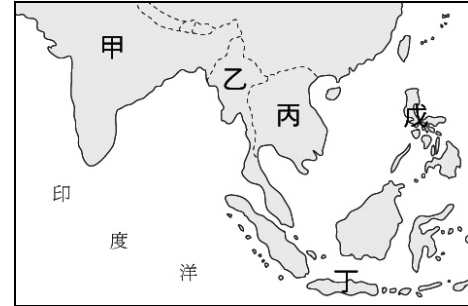


- () 南島語族的分布範圍廣大，而臺灣是南島語族分布的最北端。請問：下列哪個地區的民族，最可能與臺灣原住民源出同一語系？ (A)泰國 (B)印度 (C)夏威夷 (D)澳大利亞。
- () 上課時，老師在黑板上貼了一張圖卡，如附圖。請問：老師講解的內容會是什麼？



- (A)這是干支紀日，源於歐美各國 (B)天干地支互相搭配，五十年稱一甲子 (C)這是干支紀年，以六十年為一週期 (D)天干與地支以耶穌基督出生那一年為基準計算。
- () 明末，臺灣曾遭荷蘭與西班牙占領，當時兩國分別是以附圖中的哪兩個地區為據點，遂行其殖民亞洲的野心？ (A)甲乙 (B)乙丙 (C)丙丁 (D)丁

戊。



- () 西元 1666 年，臺灣再度打開與中國大陸的走私貿易，中國大陸貨品又流入臺灣。為了加強臺灣與國際間的貿易，鄭經乃行函各國，積極鼓勵外人來臺灣通商。當時最積極想與鄭氏貿易的國家為下列何者？ (A)葡萄牙 (B)西班牙 (C)荷蘭 (D)英國。
- () 臺灣大約在五萬年前就有人類活動的蹤跡，在推斷臺灣史前時代文化演進過程時，考古學家一般是以下列哪項出土資料作為分期的標準？ (A)遺址發現的地點 (B)人類的遺骨多寡 (C)人類使用的工具 (D)考古遺址的地質。
- () 附表是臺灣歷史的發展過程，依表中史事發展的先後順序，何者排列正確？ (A)乙丁丙甲 (B)丙丁甲乙 (C)丙乙丁甲 (D)丁丙甲乙。

甲	鄭成功圍攻荷蘭人
乙	施琅率兵攻臺
丙	荷蘭人占領臺灣南部
丁	西班牙人占領臺灣北部

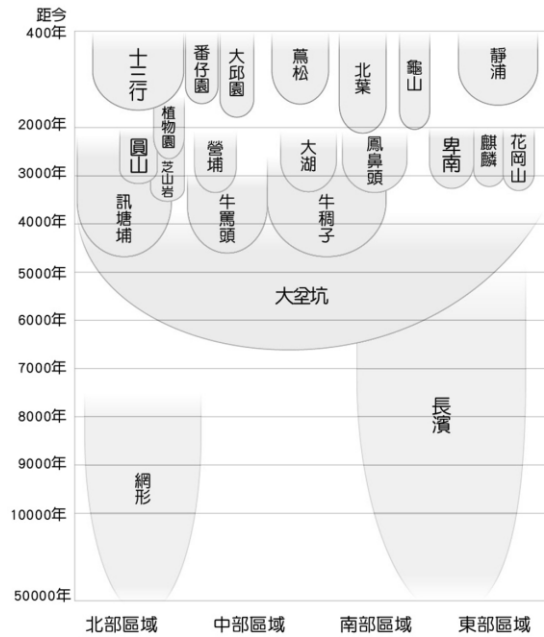
- () 下列關於「海商」的敘述，何者正確？ (A)為明代在海上從事非法走私貿易的荷蘭商人 (B)組成分子完全是日本人 (C)李旦、顏思齊及鄭芝龍是其中的代表人物 (D)明政府派兵進駐臺灣，海商遂轉移到澎湖。
- () 荷蘭人為了尋找對中國與日本的貿易據點，曾兩度占領澎湖，但最後卻仍舊無法以澎湖作為貿易據點，其主要的原因為何？ (A)澎湖已成為日本的貿易基地 (B)澎湖有海盜勢力盤據 (C)澎湖是西班牙的勢力範圍 (D)澎湖為明朝的領土。
- () 芝穎是新北市八里地區考古隊的工作人員，日前有民眾在八里某地區發現史前遺物，芝穎被指派前往挖掘文化。請問：下列何者最可能是芝穎挖掘後，所繪之八里地區的文化層形態？

(A)	卑南文化	(B)	十三行文化	(C)	大坌坑文化	(D)	大坌坑文化
	長濱文化		大坌坑文化		十三行文化		圓山文化

- () 人類歷史中的某個時期因為產生許多重大的變革，因此有「新石器革命」之稱，其中使人類有閒暇可從事創造活動的關鍵為下列何者？ (A)已知農耕、畜牧，進入產食階段 (B)開始利用磨製石器，種類繁多 (C)已知煉鐵，發明新工具 (D)發展出國家，足以保護人民。
- () 荷蘭人在臺時期，(甲)瓷器(乙)香料(丙)稻米(丁)蔗糖，都是臺灣重要的輸出轉運商品。請問：上述商品中，哪些可能是從其他地方進口再加以轉運的商品？ (A)甲乙 (B)乙丙 (C)乙丁 (D)丙丁。

二、題組：42%(每題3分)

※根據圖示，回答下列問題：



17.()小智撰寫歷史報告時，蒐集了長濱文化、網形文化的資料，請問：小智的報告主題最可能為下列何者？

- (A)臺灣原住民族的傳說與遷徙 (B)臺灣舊石器時期文化的特色 (C)臺灣新石器石器文化的發展 (D)臺灣金屬器時期文化的演變

18.()根據圖示，距今兩千年前的臺灣進入另一新階段，這是因為何種技術出現？ (A)製造陶器 (B)磨製石器 (C)製造玻璃 (D)煉鐵技術

19.()下列哪一史前文化的遺址地點遍布臺灣各地區？ (A)長濱文化 (B)卑南文化 (C)大坌坑文化 (D)十三行文化

※鄭氏在臺時期，○○○向鄭經提議興建「聖廟」與學校，鄭經一開始不同意，他的理由是「這裡土地如此狹小，而且人民稀少，以後再說吧！」○○○回答：「當年商湯以百里之地稱王，周文王以七十里興起，他們鼓吹教育豈會因為地方狹小，這是因為他們愛好賢人的緣故。這裡只要十年教育人才，十年生聚教訓，必能與中原一較天下。今天既然糧食齊備，當然要推動教育。」鄭經說：「好！就照你的說法來做吧！」請問：

20.()這位○○○應該是下列何人？ (A)陳永華 (B)鄭成功 (C)施琅 (D)郭懷一。

21.()文中所謂的「聖廟」應該是指下列哪一座廟？ (A)孔廟 (B)土地公廟 (C)教堂 (D)天后宮。

※宜靜、大雄、小夫、胖虎搭乘時光機器，到史前時代遊覽，分別來到：(甲)舊石器時代晚期 (乙)新石器時代早期 (丙)新石器時代晚期 (丁)金屬器時代。回到現代後，各自將見聞描述下來。請根據四人敘述的內容，判斷他們到了哪一個時代：

22.()宜靜：「我看到有些人在田裡耕種，有人用陶罐裝水，還有人用鐵製的魚鉤在捕魚。」 (A)甲 (B)乙 (C)丙 (D)丁。

23.()大雄：「我看到人們使用相當粗糙的石器在捕獵動物，他們大部分居住在岩蔭或洞穴中。」 (A)甲 (B)乙 (C)丙 (D)丁。

24.()小夫：「我看到有人配戴雕刻精美的玉器，有人則將屍體放入石板棺中埋葬，並擺設許多陪葬品。」 (A)甲 (B)乙 (C)丙 (D)丁。

25.()胖虎：「我看到一些表面用粗繩紋拍印的陶罐和陶鉢，還有人正在磨製石器，以及進行根莖作物的農耕。」 (A)甲 (B)乙 (C)丙 (D)丁。

※右圖為臺灣原住民族名稱演變示意圖，請參考此圖回答

問題：



26.()圖表中臺灣原住民族的分類與名稱，在不同時期有不同的變化，應與下列何者最有關係？ (A)原住民部落間的征戰 (B)原住民宗教信仰的改變 (C)原住民的漢化深淺 (D)統治臺灣政權的改變。

27.()請問甲階段名稱的分類，是以何者作為標準？ (A)居住地區 (B)經濟型態 (C)納稅服役 (D)語言能力。

※下圖為臺灣史前時代某文化的生活想像圖，請參看圖片並回答問題：



28.()請問何者最能夠判斷此想像圖屬於金屬器時期？ (A)干欄式建築 (B)煉鐵作坊 (C)與漢人交易 (D)農耕活動。

29.()這幅想像圖應可代表臺灣史前時代哪個文化類型？ (A)長濱文化 (B)十三行文化 (C)圓山文化 (D)卑南文化。

30.()承接上題，這個遺址發現多樣外來器物，顯示與其他地區有貿易往來。請問下列何者不適合作為例證？ (A)人面陶罐 (B)唐宋銅錢 (C)玻璃手環 (D)瑪瑙珠飾。

三、配合題：10%(每題2分)

※請選擇正確相關的國家代號，填入各題相對應的空格中。

- A. 葡萄牙 B. 西班牙 C. 荷蘭 D. 英國

31. 聖多明哥城 ()
 32. 熱蘭遮城 ()
 33. 澳門 ()
 34. 馬尼拉 ()
 35. 紅毛城 ()