

一、單選題（每題 2 分，共 80 分）


- 下列哪個組織的成立是為了維護產油國的權力、國際原油的價格和產量水準？
(A)東南亞國協 (B)世界貿易組織 (C)石油輸出國家組織 (D)歐洲聯盟
- 美國多年前曾進攻伊拉克，逮捕海珊。各界對於美軍這次的作戰有不同的意見，有人認為美國出兵，其實是為了自身的利益，因為美國覬覦伊拉克豐富的能源資源，以此藉口來出兵。請問：這裡所指伊拉克豐富的資源應該是下列何者？
(A)地熱(B)風力(C)水力(D)石油
- 西亞的宗教信仰衝突，是本地動盪不安的一大原因，起因是哪種宗教與信仰伊斯蘭教的阿拉伯人爭奪土地所產生的？(A)拜火教(B)猶太教(C)基督教(D)天主教
- 西亞乾燥氣候區的居民利用地下自然湧出的泉水或人工挖掘的地下水道發展農業，下列中國四個地理區中，哪一個地區也是這種農業類型著稱？
(A)塔里木盆地 (B)柴達木盆地 (C)四川盆地 (D)黃土高原
- 藍瑜想去探訪擁有楔形文字的西亞古文明。請問：藍瑜應前往西亞的哪一個區域，才能找到西亞古文明的發源地？
(A)阿拉伯高原(B)伊朗高原(C)美索不達米亞平原(D)安那托利亞高原
- 「肥沃月彎」是西亞最富庶的農業區，主要是該地區具備何項優越條件以發展農業？
(A)氣溫較高(B)雨量較多(C)灌溉較發達(D)勞力較充足
- 西亞地區的居民修築坎井，灌溉農田，這種特殊灌溉方式，與當地哪一種特性有關？
(A)岩層堅硬，儲水較多 (B)氣候乾燥，水分容易蒸發
(C)雨水充沛，減少土壤流失 (D)地下水豐沛，加快排水
- 西亞地區有世界最大的石油蘊藏量，石油儲量占世界的 2/3，其中大多分布於何處？
(A)阿拉伯海沿岸(B)波斯灣地區(C)紅海地區(D)地中海沿岸
- 對處於西亞乾燥地區的居民來說，日常生活中最珍貴的資源是什麼？
(A)石油(B)礦產(C)水(D)食用油
- 西亞的氣候以熱帶沙漠氣候為主，因此當地的傳統服飾多為頭巾、寬鬆長袍。請問：該地區氣候乾燥炎熱的主要原因為何？
(A)距海遙遠(B)對流旺盛(C)面積廣大 (D)回歸線經過，高壓籠罩
- 沙烏地阿拉伯為阿拉伯半島上面積最大的國家，其氣候酷熱，屬熱帶乾燥氣候，後來因某項產業發展，大幅提升該國家的經濟成長率和國民所得。請問：促使經濟大幅成長，主要是下列何項資源的開發？ (A)棉花 (B)石油 (C)查克拉 (D)大理石

- 消誠出國旅遊，但在旅行中所享用的餐飲，始終沒有豬肉的料理。請問：消誠最有可能到下列哪一個國家？ (A)越南 (B)沙烏地阿拉伯 (C)緬甸 (D)以色列
- 西亞地區在自然和人文上最具一致性的地理現象是下列哪一項？
(A)全都信奉伊斯蘭教(B)氣候乾燥(C)地形單調(D)政治組織單純
- 西亞地區因氣候乾燥，在農業發展上始終受限。但哪一個國家因位居兩河流域，灌溉系統普及，農業發達？ (A)伊拉克(B)伊朗(C)土耳其(D)沙烏地阿拉伯
- 西亞西側鄰近地中海與黑海一帶，為典型的溫帶地中海型氣候，其降雨主要集中在哪一季節？(A)春(B)夏(C)秋(D)冬

- 附圖為西亞傳統駱駝商隊的漫畫示意圖。請問：漫畫是要表達西亞哪項重要的地理特徵？



- 附圖是元元在某旅遊雜誌所看到的圖片。請問：圖中的情景最可能出現在亞洲哪一地區？



- 偶像團體 BTS 四位大男生，相約至沙烏地阿拉伯遊玩。請問：下列哪位對沙烏地阿拉伯的敘述是錯誤的？
(A)劉宇耗說：「這個國家位於阿拉伯半島上。」
(B)林誠意說：「駱駝是這地區常見的馱獸。」
(C)何雨祥說：「這裡的植物多半是熱帶雨林景觀。」
(D)燕阿勝說：「這裡的石油價錢或許比水還便宜哩！」
- 中亞五國為「白金」的重要生產地，也是中亞重要的經濟作物。請問：「白金」是指何種作物？(A)菸草(B)椰棗(C)棉花(D)馬鈴薯
- 中亞地區的地形、氣候、水文、農業和聚落的地理特徵，與中國哪一個地區最相似？
(A)四川盆地 (B)青藏高原 (C)塔里木盆地 (D)內蒙古高原
- 中亞地區氣候乾燥，除了四周高山圍繞外，降水少的主要原因為何？
(A)副熱帶高壓籠罩 (B)距海遙遠 (C)地勢較高 (D)地形平坦
- 該組織會員國有：伊朗、伊拉克、科威特、卡達、阿拉伯聯合大公國及沙烏地阿拉伯等西亞地區國家，和非洲的奈及利亞、利比亞、阿爾及利亞、安哥拉，以及南美洲的委內瑞拉、厄瓜多，東南亞的印尼。成立目的是為了維持石油出口的價格及產量水準。請問：這組織的名稱為何？ (A)EXO (B)WTO (C) LOL (D)OPEC。

23. 彥甫查閱百科全書時看見以下的說明：「此種作物生長在沙漠地區，果實產量多，營養價值高，被稱為『沙漠麵包』，是西亞國家的重要出口農作物。」請問：彥甫查閱的是哪種作物？ (A)椰棗 (B)橄欖 (C)榴槤 (D)橡膠。

24. 近年來，中亞各國的國家收入有顯著的提升，人民生活因此大幅改善。請問：改善此區經濟結構的原因，應為下列何者？

- (A)煤礦 (B)鐵礦 (C)石油與棉花 (D)木材。

25. 小東一家人是虔誠的穆斯林，每日必定面向聖地麥加朝拜五次，今年更計畫親自到麥加朝聖。請問：小東一家人到麥加朝聖前，必須先向哪個國家申請？

- (A)伊朗(B)伊拉克(C)沙烏地阿拉伯(D)中國。

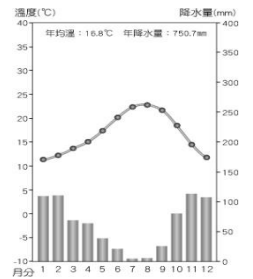
26. 西亞地處三大洲的交界帶上，戰略位置重要。請問：這三洲分別為下列何者？

- (A)歐洲、亞洲、北美洲 (B)歐洲、非洲、北美洲 (C)歐洲、亞洲、非洲

- (D)亞洲、非洲、北美洲。

27. 附圖為西亞某地區的氣候圖。請問：該地區最可能位於何處？

- (A)紅海和波斯灣沿岸
(B)波斯灣和黑海沿岸
(C)地中海沿岸
(D)裏海和阿拉伯海沿岸。



28. 中亞的哈薩克境內石油蘊藏量多，目前和哪個鄰國合作，利用油管將石油向外輸出，成為重要的經濟來源之一？ (A)中國 (B)俄國 (C)伊朗 (D)阿富汗。

29. 「東鄰中國，西臨裏海，北鄰俄羅斯，南接西亞，自古即是東、西往來的交通要道，也是絲路經過之地。」以上敘述的是亞洲哪個地理區？

- (A)北亞 (B)南亞 (C)中亞 (D)東南亞。

30. 歐洲氣候大多受何種盛行風向的影響？ (A)東風 (B)南風 (C)北風 (D)西風。

31. 歐洲各地區皆具有下列何種地理特徵？(A)全區無沙漠氣候 (B)海岸平直少曲折

- (C)以平原為地形主體 (D)皆有夏乾冬雨的氣候。

32. 多瑙河的航運價值遠不如萊茵河重要，其主要原因為何？

- (A)沿岸地形崎嶇 (B)流經國家較少 (C)出口流向不佳 (D)河流長度較短。

33. 我們常常運用英文簡稱及簡單的符號來代表世界性的組織或物品標誌。

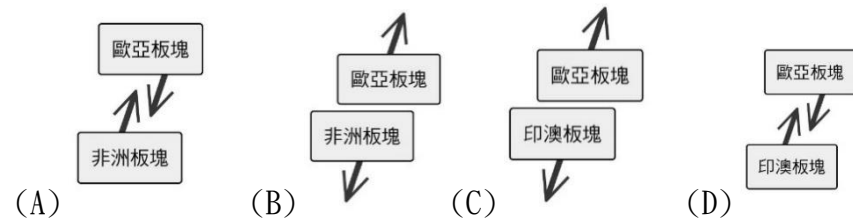
請問：附圖中你所看到的標誌代表什麼？

- (A) 歐盟 (B) 世界貿易組織 (C) 歐元 (D) 烏龍派出所



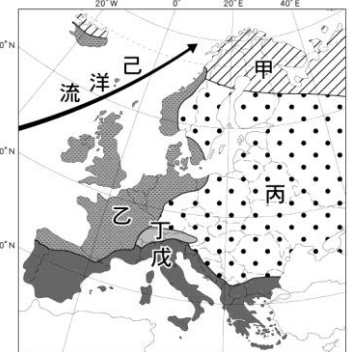
34. 北歐雖位於高緯，氣候嚴寒，但水氣充足，冬季港口多為不凍港，形成此現象的最主要因素為何？ (A)上帝祝福 (B)季風強勁 (C)北大西洋暖流 (D)經度

35. 南歐地區的地形受到板塊擠壓的影響呈現崎嶇多山的特色，若將此區的板塊名稱及活動方向畫成示意圖，應最接近下列哪張圖？



36. 附圖為歐洲的氣候分布圖。請問：圖中的「己」，最可能是？

- (A)黑潮 (B)親潮 (C)北大西洋暖流 (D)海王類。



37. 位於大西洋沿岸的西歐，其氣候類型以溫帶海洋性氣候為主。請問：溫帶海洋性氣候的降雨分布情況主要為下列何者？

- (A)四季有雨 (B)夏乾冬雨 (C)夏雨冬乾 (D)四季乾燥。

38. 目前歐洲所出現的人口問題最主要為下列何者？

- (A)人口分布不均 (B)人口素質不佳 (C)人口成長停滯 (D)人口出生率太高。

39. 附圖是下列哪個組織的旗幟？

- (A)歐洲聯盟 (B)復仇者聯盟 (C)東南亞國協 (D)聯合國。



40. 歐洲聯盟的目的是要使勞力能夠自由流通，若考量整個歐洲的經濟情勢，哪種方向的勞力流通最明顯？ (A)南歐→東歐 (B)東歐→西歐 (C)北歐→西歐 (D)西歐→東歐

二、填圖題(每題四分)

甲	河川
乙	河川
丙	海
A	山脈
C	洋

