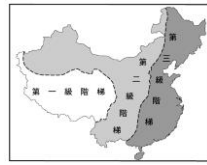


單選題 (每題 2.5 分):

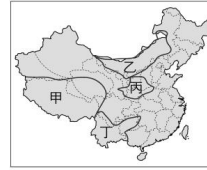
1. 附圖為中國三級階梯示意圖, 該圖是以什麼條件作為劃分的依據?

- (A) 經濟發展 (B) 地勢高低 (C) 氣候差異 (D) 行政區域劃分。



2. 智允前往中國旅遊, 旅遊地點有特殊的石灰岩地形景觀, 地表崎嶇, 雖不利農耕, 但景色絕美。請問: 小智最有可能前往附圖中何處旅遊?

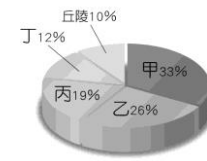
- (A) 甲 (B) 乙 (C) 丙 (D) 丁。



3. 中國長河大多由西向東流入海洋, 且海洋氣流也能向西深入內陸, 影響此現象的主因為何? (A) 土壤 (B) 氣候 (C) 地勢 (D) 植物。

4. 中國地形複雜, 附圖為中國五大地形面積比例圖。圖中甲地形所占的面積比例最大, 應為何種地形?

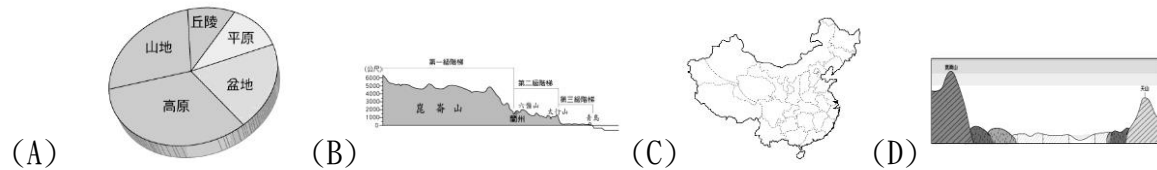
- (A) 山地 (B) 縱谷 (C) 平原 (D) 丘陵。



5. 中國地勢最高的地方, 也是氣溫與氣壓最低之處, 主要為下列哪一地理區?

- (A) 東北平原 (B) 黃土高原 (C) 青藏高原 (D) 塔里木盆地。

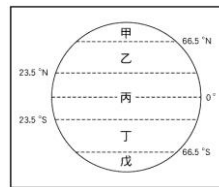
6. 下列哪張圖較可以說明中國地勢西高東低的情況?



7. 下列哪個地理區屬於中國最大平原, 但因為緯度太高, 冬天寒冷, 收穫次數最少?

- 位於第一級階梯? (A) 黃土高原 (B) 四川盆地 (C) 青藏高原 (D) 東北平原。

8. 被稱為「美崙羅志祥」的金木橫作夢自己當了中國的皇帝, 他必須馬不停蹄去各邊界巡視國土。請問: 他行走的範圍絕大部分位於附圖中的哪一區? (A) 甲 (B) 乙 (C) 丙 (D) 丁。



9. 依中國的緯度分布判斷, 中國缺乏哪種氣候帶分布?

- (A) 熱帶季風氣候 (B) 副熱帶季風氣候 (C) 溫帶季風氣候 (D) 寒帶氣候。

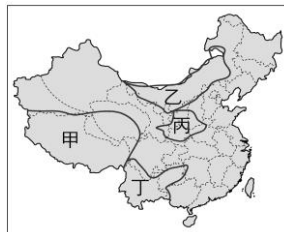
10. 地勢高低影響一地的自然環境及人文特色。下列哪個現象與中國地勢無關?

- (A) 跨越多個時區 (B) 人口集中東半部 (C) 河川東流入海 (D) 有利海洋氣流進入

11. 子璇和女友回想著: 「這裡是一片遼闊的草原, 牧人騎著馬追趕羊群, 風光雖然美好, 但日、夜溫差實在太大了, 居民喜歡住在蒙古包內, 和臺灣的相差很大, 令我不太適應。」

請問: 子璇最可能到附圖中的哪一地區旅遊?

- (A) 甲 (B) 乙 (C) 丙 (D) 丁。



12. 「此盆地因四周多高山阻擋, 進出不易, 古人多有『蜀道難, 難於上青天』之嘆, 但這裡是最好的盆地, 農作物眾多, 養活了眾多人口。」以上敘述為中國哪一盆地的特色? (A) 柴達木盆地 (B) 準噶爾盆地 (C) 塔里木盆地 (D) 四川盆地。

13. 中國哪一種地形農業發達且交通便利, 為人口集中及工商業繁榮的精華地帶?

- (A) 高原 (B) 山地 (C) 丘陵 (D) 平原。

14. 中國領土多位於中緯度地區, 其分布範圍主要影響了中國的哪項特徵?

- (A) 地形 (B) 氣候 (C) 時區 (D) 民族。

15. 「塔克拉瑪干」的原意是「有去無回之地」, 位於塔里木盆地內, 某探險隊想深入這個僅次於撒哈拉的世界第二大沙漠, 應前往附圖中的哪一區? (A) 甲 (B) 乙 (C) 丙 (D) 丁。



16. 暑假期間辰恩帶著小孩到中國旅遊, 在高原上發現冰河地形, 他可能是到何處?

- (A) 雲貴高原 (B) 黃土高原 (C) 青藏高原 (D) 四川盆地

17. 下列哪一國的人口總數已超過 13 億, 是目前全球人口數最多的國家?

- (A) 韓國 (B) 中國 (C) 美國 (D) 日本。

18. 中國人口快速成長, 產生人口過多的問題, 為了減緩人口增加速度, 中國因應的人口政策為何?

- (A) 重男輕女 (B) 實施優生保健 (C) 二個孩子恰恰好 (D) 一胎化政策。

19. 中國是世界上人口最多的國家, 此說明中國具有何種優勢?

- (甲) 礦產資源豐富 (乙) 人力充足 (丙) 消費市場大 (丁) 就業機會多

- (A) 甲乙 (B) 甲丙 (C) 乙丙 (D) 丙丁。

20. 下列哪一個最可能是中國目前的性別比?

- (A) 100 (B) 98 (C) 75 (D) 107。

21. 「中國人口眾多成為吸引臺商投資的因素。」根據此一說法, 臺商前往中國投資, 主要著眼於下列哪項因素?

- (A) 原料、動力 (B) 資金、技術 (C) 勞工、技術 (D) 市場、勞工。

22. 高齡化社會通常出現在經濟發展程度高的國家, 如日本、瑞典。但中國在西元 2000 年時已達到高齡化社會的標準, 其成因與下列何者最有關係?

- (A) 經濟成長率逐年增加 (B) 勞動人口大量流入鄰近國家
(C) 社會資源多偏向老人福利 (D) 實行嚴厲的計畫生育政策。

23. 老師上課時告訴同學: 「某地區的居民利用黃土層挖窯洞居住, 當地普遍興建此種建築的原因在於缺乏木材, 而且黃土細膩不鬆軟」老師所說此地區是?

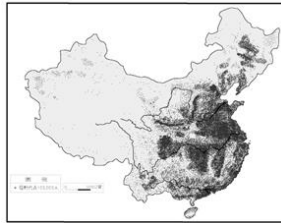
- (A) 東北平原 (B) 黃土高原 (C) 青藏高原 (D) 長江三角洲

24. 西元 2007 年中國 0~4 歲的幼年性別比高達 126，造成此種現象的主要因素為何？

- (A) 人口數量眾多 (B) 勞動人口不足 (C) 人口成長快速
(D) 實施一胎化，重男輕女觀念。

25. 右圖為中國的人口分布圖。該圖表示中國的人口分布具有何項特色？

- (A) 人口集中於西北部 (B) 人口集中於季風氣候區
(C) 人口集中於山地及高原區 (D) 人口分布非常平均。



26. 中國人口集中在東南半部。請問：下列何者最可能是人口稠密區？

- (A) 塔里木盆地 (B) 青藏高原 (C) 柴達木盆地 (D) 長江中下游平原。

27. 中國的氣候依其特性分為季風、乾燥、高地等三大氣候區。請問：季風氣候區的年雨量最少須達到多少 mm 以上？ (A) 100 (B) 250 (C) 500 (D) 750。

28. 中國長久以來就有人口眾多的壓力，所以常有人口外移的現象。請問下列哪一地區因為人口外移眾多，而有「僑鄉」的稱號？

- (A) 上海 (B) 北京 (C) 青藏 (D) 福建。

29. 中國人蓋房子時喜歡將房子正門朝向哪一方位，避免冬季時寒冷的季風吹入屋內？

- (A) 朝東 (B) 朝西 (C) 朝南 (D) 朝北。

30. 西元一九七〇年代，中國實施一胎化政策，下列何者是政策實施後所造成的影響？


- (A) 都市人口增加 (B) 人口總數不變 (C) 人口分布不均 (D) 人口性別不平衡

31. 育博與育林兩兄弟住在中國的某地，那裡 1 月均溫為 -2.1°C 、7 月均溫 15.3°C 、年雨量 427 mm、高度約 4658 公尺。請問：兩兄弟最可能住在下列哪一個地區？

- (A) 青藏高原 (B) 塔里木盆地 (C) 東北平原 (D) 中國有嘻哈。

32. 附圖為中國南部地區民族特有的「干欄式」建築，其主要功能是？

- (A) 遷移方便 (B) 抵禦寒冷 (C) 防潮通風 (D) 防禦盜賊。



33. 為了因應多雨的氣候，而出現騎樓樣式的建築，這是中國哪一地區的環境特色？

- (A) 北部地區 (B) 南部地區 (C) 西部地區 (D) 全中國都好

34. 由於冬季寒冷，為了驅寒而有了最早的中央空調系統「炕」。請問這種取暖方式出現在中國哪一地區？ (A) 北部地區 (B) 南部地區 (C) 西部地區

35. 溫帶季風與副熱帶季風氣候的分界線，是以秦嶺和哪一條河作為分界？

- (A) 長江 (B) 淡水河 (C) 淮河 (D) 黃河

36. 西部地區由於氣候與地形緣故，所以主食以那些食物為主？

- (A) 水稻 (B) 小麥 (C) 牛羊肉乳 (D) 漢堡炸雞

37. 中國的各種地形當中，以下列哪兩種地形所占的面積最大？

- (A) 丘陵、平原 (B) 平原、山地 (C) 山地、盆地 (D) 高原、山地。

38. 台灣在冬季與春季常有沙塵暴發生，這些沙塵主要來自哪一地區？

- (A) 內蒙古高原 (B) 青藏高原 (C) 塔里木盆地 (D) 雲貴高原

39. 犛牛的肉可食、乳可飲、毛皮可用，還可作為運輸工具，有「高原之舟」的美譽。請問：犛牛是圖中哪個地點的重要馱獸？

- (A) 甲 (B) 乙 (C) 丙 (D) 丁



40. 住在中國四大高原的代表，聊著自己家鄉的特色。

請問：下列哪一位代表說錯了特色？

(A) 青藏代表哲安：因為冰河侵蝕，地形崎嶇。

(B) 黃土代表阿德：我們那兒的黃土相當堅硬，雨量豐富，所以地形平坦遼闊

(C) 內蒙古代表彥儒：冬季高氣壓的發源地，易受風蝕作用影響，有草原或荒漠。」

(D) 雲貴代表韋隆：因為石灰岩遭到酸雨的溶蝕作用，地形也很崎嶇