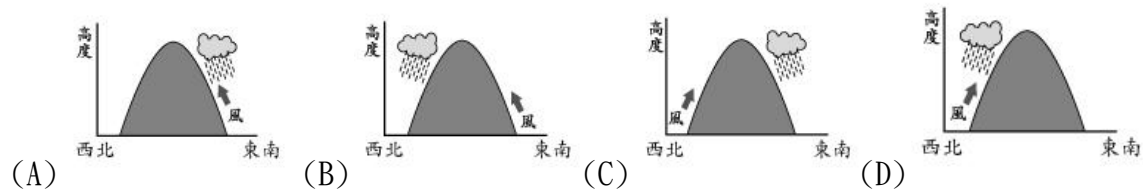
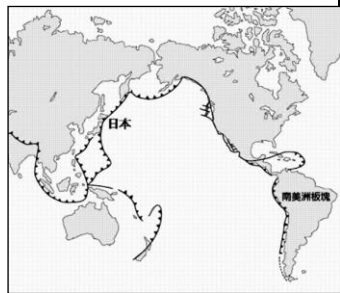



一、選擇（每題 3 分，共 90 分）：

- 美國前任總統川普曾經徒步跨越軍事分界線，與北韓最高領導人金正恩，舉行兩國元首會談，川普是歷史上第一位徒步跨越軍事分界線的美國總統……文中的軍事分界線是指下列何者？ (A)長城 (B)富士山 (C)北緯 38 度線 (D)北緯 66.5 度線。
- 日本經常遭受地震與海嘯的襲擊。請問：日本多地震海嘯最可能與下列哪一項環境特徵有關？ (A)位處中緯度地區 (B)地處環太平洋火環帶 (C)溫和溼潤氣候 (D)坡陡流急河流。
- 日本四面環海，氣候較同緯度地區溫暖多雨。請問：日本夏季降雨的類型為下列何者？



- 朝鮮半島分為南、北兩個國家，兩個國家在哪一方面最為相似？ (A)政治體制 (B)販售商品 (C)農作物收穫次數 (D)語言文字。
- 日本國土南北狹長，以何種地形為主體？ (A)高原 (B)山地 (C)平原 (D)盆地。
- 北韓以建造核子反應爐及試射飛彈，展示其強大武力。請問：北韓的工業優勢在於？ (A)勞力多 (B)礦產資源較多 (C)技術水準高 (D)經濟較佳
- 主播宥瑾利用右圖介紹日本，由此圖判斷下列哪一項錯誤？ (A)位於板塊交接帶 (B)多火山、地震 (C)多島嶼、破碎地形 (D)多煤礦、石油。
- 南韓政府扶植大財團，如 Samsung 與 LG 等電子產業享譽國際。但南韓發展高科技產業卻有一項不如北韓，主要是指下列何者？ (A)地形崎嶇 (B)氣候寒冷 (C)缺乏礦產 (D)勞工素質差。



- 「」此符號代表溫泉，上方畫了三道熱氣，是代表一天當中泡湯的最好時段為：晚飯前、晚餐後，以及睡覺前，總共三次，可以見得日本人非常喜歡泡溫泉。請問：溫泉的形成與日本何項環境條件關係最密切？ (A)位居中緯度 (B)地勢較高聳 (C)屬溫帶季風氣候 (D)處太平洋火環帶。

- 朝鮮半島有「東亞陸橋」之稱，因為介於中國和哪一地區之間？ (A)南洋群島 (B)印度半島 (C)日本群島 (D)阿拉伯半島。
- 朝鮮半島的南部氣溫較北部高，此氣候特徵為南部帶來的優勢為何？ (A)工業較興盛 (B)收穫可以兩次 (C)民族較多元 (D)水力較充沛。
- 日本產品行銷全世界，成為亞洲最先進的國家的因素，何者不是主要原因？ (A)先進的技術 (B)優勢的品牌 (C)豐富的礦產資源 (D)大量的海外投資。
- 日本的都會區與工業區均位在沿海地區，調查原因，與日本的哪項條件有密切關係？ (A)漁業發達 (B)優質的勞力技術 (C)缺乏原料，需要港口輸入 (D)氣候優良
- 小東與隔壁班的好友在網路上聊天，小東介紹她即將去念大學的都市：「我住的地方辦過奧運，但城市名稱改變了，現在已經是朝鮮半島上的最大都市。我可以帶妳去明洞或是梨泰院逛逛」小東最可能到下列哪個城市去留學？ (A)橫濱 (B)平壤 (C)東京 (D)首爾
- 下列關於南、北韓的比較，何者正確？ (A)甲 (B)乙 (C)丙 (D)丁。

國家	(甲) 政治體制	(乙) 農業收穫次數	(丙) 首都	(丁) 經濟發展
南韓	民主政治	一穫	釜山	低
北韓	共產主義	二穫	平壤	高

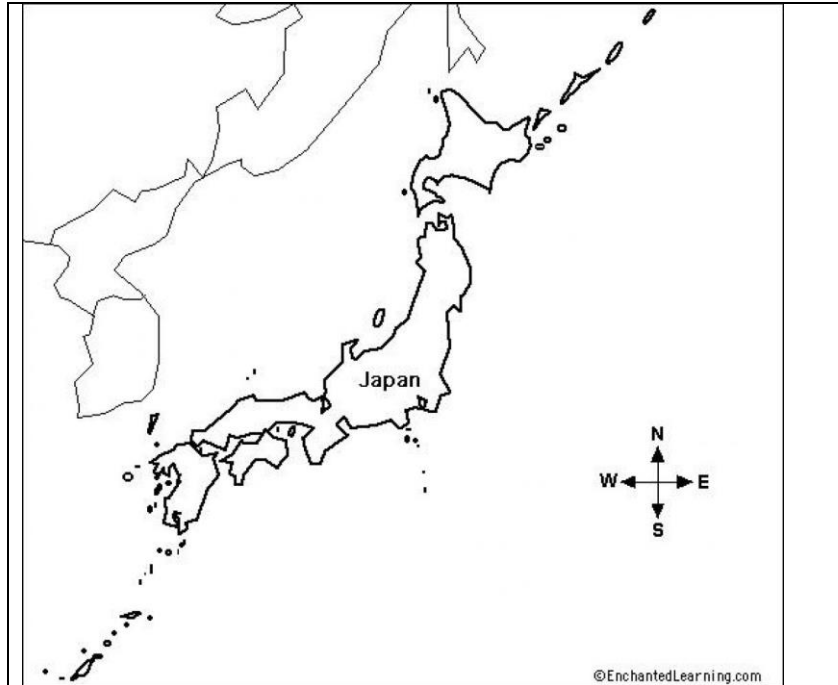
- 青雲想做一份有關南、北韓的比較。請問：哪一份資料內容錯誤？ (A)南韓電子、娛樂業發達 (B)進口大量原料是南韓的現況 (C)北韓礦產稀少只能發展農業 (D)北韓長期忽略民生工業。
- 西元 2021 年臺北國際旅遊展盛大展開，此次參展的單位極多。請問：在東北亞的場館找不到下列哪一個國家的旅遊資料？ (A)日本 (B)南韓 (C)泰國 (D)朝鮮人民共和國。
- 到韓國旅遊，發現當地每餐幾乎都有泡菜，經詢問當地民眾後發現，原來這裡的居民每年在秋收之後，就會大量醃製泡菜。韓國泡菜的由來，與下列哪項因素關係最密切？ (A)冬季寒冷 (B)地形崎嶇 (C)洋流交會 (D)板塊擠壓
- 日本傳統的民間習俗，每年夏季男孩節時，都會在住家掛上斗大的鯉魚風箏。請依日本的季風風向判斷，此時風箏大多吹往哪一方向？ (A)北方 (B)西方 (C)東北方 (D)東南方

- 20 日本的人口和都市大多位於東部太平洋沿岸；臺灣的人口和都市大多位於西部沿岸。兩地區人口分布的共同特徵，主要受到下列哪項自然環境因素的影響？  
 (A)平原位置 (B)氣候 (C)緯度 (D)森林分布
- 21 日本與朝鮮半島同為溫帶季風氣候，但日本終年有雨，而朝鮮半島降水集中夏季，兩地差異的主要原因為何？  
 (A)朝鮮半島地勢較高 (B)朝鮮半島受到高壓籠罩  
 (C)日本多山所以多雨 (D)日本冬季季風經過海面富含水氣
22. 日本人習慣吃米飯壽司，中國北方卻以麵食為主，此種差異和下列哪一項因素最相關？  
 (A)地勢高低 (B)耕地大小 (C)土壤沃度 (D)降水多寡
23. 櫻花是日本的國花，每當春季來臨，臺灣也有許多旅客，慕名前去賞花。請問：若想到日本旅遊，能夠沿途全程欣賞櫻花，旅程的順序應該如何安排？  
 (A)由北向南 (B)由東向西 (C)由南向北 (D)由西向東。
24. 流經日本群島的寒、暖洋流分別為下列何者？  
 (A)寒流：黑潮；暖流：親潮 (B)寒流：親潮；暖流：黑潮  
 (C)寒流：黑潮；暖流：中國沿岸流 (D)寒流：中國沿岸流；暖流：親潮。
25. 日本的哪一座都市是首都及最大的都市，也是亞洲重要的金融中心與觀光重鎮？  
 (A)名古屋 (B)大阪 (C)京都 (D)東京
26. 電視劇——《大長今》，在上映時掀起的一股飲食風潮，如泡菜及人蔘等食材大受歡迎。根據其飲食特色加以判斷，該齣戲最可能呈現出哪一國的環境特色？  
 (A)南韓 (B)日本 (C)泰國 (D)越南
27. 下列哪個都市為北韓的首都與最大都市，並與鄰近的中國及俄羅斯有鐵路系統連接？  
 (A)首爾 (B)釜山 (C)平壤 (D)大阪
28. 韓劇近年來在臺灣大為風行，如《太陽的後裔》、《來自星星的你》等。南韓利用影視產業的行銷，可以帶動其國內何種產業的發展？  
 (A)汽車業 (B)紡織業 (C)電子業 (D)觀光業
- 29 「江陵端午祭」於農曆 4、5 月舉辦，內容包括釀製神酒、摔跤、包粽子、盪鞦韆及假面演出等大型民俗活動。上述「江陵端午祭」是哪個國家的文化活動？  
 (A)中國 (B)日本 (C)韓國 (D)越南

30. 「文化產業在近十餘年才快速增長，並風靡全球，以影視、網路遊戲、音樂等娛樂文化為主體，國家金融的大力扶持為其提供了良好的環境。近年大量出口的影視產品與音樂也帶動了觀光旅遊業的發展；網路遊戲的出口規模也快速擴增，達到了傳播文化、提升國際地位的成效。」上述文化產業發展特色，最可能是下列哪個國家？

- (A)日本 (B)中國 (C)印度 (D)南韓

## 二、填圖題（每題 2 分，共 10 分）



1	島	
2	島	
3	分界線	
4	都市	
5	洋流	

## 三、加分題（共 5 分）

如果不是疫情爆發，每年都有幾十萬人前往日本與南韓旅遊觀光，即使無法出國，也有不少人正在使用日韓的商品。請你試著舉例日本與南韓有哪些方面吸引了台灣人，成為台灣人熱愛哈日、哈韓的原因？（五個）

姓名：

座號：