

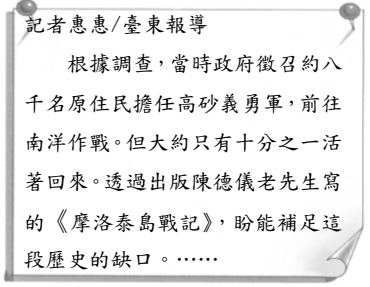
花蓮縣立美崙國中109學年度第二學期七年級第一次段考社會領域歷史科試卷



※請將答案劃記於電腦答案卡 科目代號：06

七年 班 號 姓名：_____

配分：1~30 每題 3 分；31~35 每題 2 分

一、單題：

- () 日本統治期間，運用警察制度嚴密控制臺灣社會，當時原住民頭目因不滿日本官吏高壓統治，憤而率眾抗爭，爆發了下列哪個事件？ (A)劉永福抗日 (B)霧社事件 (C)噍吧哖事件 (D)牡丹社事件。
- () 嘉南大圳的完工，使嘉南平原的灌溉愈加豐沛。請問：「嘉南大圳」完工於何人之手？ (A)劉銘傳 (B)郭錫瑠 (C)八田與一 (D)曹謹。
- () 日治時期，總督府進入山區，推動林野調查，其目的為何？ (A)保護原住民的生活空間 (B)避免山林資源被過度開發 (C)進行水土保持防範災害 (D)協助資本家開發山區資源。
- () 甲午戰爭後，中國戰敗，將臺灣割讓給日本，臺灣自此成為日本的殖民地。關於日本得到臺灣後的統治手法，下列何者正確？ (A)總督府透過高壓與懷柔並重的手段，穩定臺灣秩序 (B)完全以軍隊嚴密控制臺灣社會，引發人民不滿 (C)對臺灣風土民情調查詳細，並未引發叛變 (D)為避免激起臺人反抗心理，總督府完全採取放任政策。
- () 根據下圖新聞剪報內容判斷，這本《摩洛泰島戰記》的內容應是記敘哪段戰爭的歷史？ (A)牡丹社事件 (B)甲午戰爭 (C)第一次世界大戰 (D)第二次世界大戰。

- () 西元 1922 年，日本人成功培育新品種的稻米，對臺灣的稻米產生一定程度的助益。請問：這是哪個品種的稻米？ (A)池上米 (B)蓬萊米 (C)中興米 (D)秈稻米。
- () 臺灣是世界糖業王國之一，這樣的稱號是在何時所建立的？ (A)荷蘭在臺時期 (B)鄭氏在臺時期 (C)清帝國時期 (D)日治時期。
- () 關於日治時期臺灣總督府推行的「保甲制度」，下列敘述何者錯誤？ (A)所有的臺灣人都編入保甲 (B)原本是清代地方上的自衛組織 (C)以取代警察制度為目的 (D)保甲內的人民一人犯法知情不報全體受罰。
- () 關於日治時期的農業發展，下列何者正確？ (A)為了提高蔗糖產量，發展新式糖廠，讓全臺蔗農獲利 (B)為了讓臺灣民眾能豐衣足食，因此改良稻米品種 (C)宣揚耕種稻米，但大家興趣缺缺 (D)八田與一主導嘉南大圳的設立，增加灌溉面積。
- () 西元 1934 年，日本推動臺灣的工業化措施，下列何項建設的完工使得工業動力大幅增加？ (A)嘉南大圳 (B)日月潭水力發電所 (C)石門水庫 (D)翡翠水庫。
- () 一九三〇年代，由於日本積極向外擴張，因此改變了治理臺灣的經濟方針，將臺灣視為前進南洋的補給基地。請問：此時期總督府喊出的政策口號為何？ (A)工業臺灣，農業南洋 (B)工業日本，農業南洋 (C)工業日本，農業臺灣 (D)工業南洋，農業臺灣。
- () 日治時期對於殖民地的控管是採取嚴格的方式進行。請問：總督府的統治是在哪兩種制度的相互配合下進行？ (甲)教育制度 (乙)議會制度 (丙)警察制度 (丁)保甲制度

- () 西來庵事件又稱為「噍吧哖事件」，而此事件對漢人的抗日運動有何影響？ (A)抗日運動化暗為明，並且亦加入許多原住民的分子 (B)漢人的武裝運動從此變本加厲，日人防不勝防 (C)由於日本強勢鎮壓，全臺風聲鶴唳，從此不再有抗日事件 (D)漢人武裝運動結束，改以政治社會運動的方式爭取臺人的權利。
- () 附圖為日治初期臺灣首次舉辦博覽會的宣傳海報，主辦單位邀請了日本、朝鮮、滿洲國和福建等地的企業與公私團體參加，希望這些企業團體踴躍設館，展出各地特產。當時臺灣最可能推出何種主題館？ (A)石化館 (B)機器人館 (C)糖業館 (D)塑化館。

- () 清帝國時期與日治時期，皆曾共同施行的農業建設為何？ (A)建立現代化製糖工業 (B)興修水利 (C)改良稻作 (D)進行林野調查。
- () 翻閱歷史紀錄，曾記載一事件如下：「此一事件假藉宗教名義起事，失敗後多人被捕，受審被告有一千多人，866 名被判死刑，後因天皇登基頒布大赦，僅 95 人遭到處決。」請問：下列何人和此事件有關？ (A)余清芳 (B)劉永福 (C)唐景崧 (D)莫那魯道。
- () 日治時期曾發生原住民襲擊日本人的事件，引起總督府大規模的鎮壓，甚至以施放毒氣、飛機轟炸等方式，令原住民死傷慘重。請問：此事件發生的地點位於附圖中何處？ (A)甲 (B)乙 (C)丙 (D)丁。

- () 阿發伯感嘆歲月流逝，勾起他年輕時當「保正」的回憶。在阿發伯的回憶裡，哪一項不可能出現？ (A)協助修改法律條文 (B)監督居民打掃環境 (C)協助推廣日語、破除迷信 (D)要正確調查戶口。
- () 根據資料顯示，總督府在西元 1943 年開徵「臺灣大東亞戰爭特別稅」，以西元 1936 年到 1944 年而言，臺民每人每年的賦稅負擔，增加了十倍之多，這是因為下列何者所造成的影響？ (A)南北縱貫鐵路籌募鉅額建設經費 (B)落實警察政治所需要的基本經費 (C)將臺灣視為前進南洋的補給基地 (D)興建水利設施和發展新式製糖廠。
- () 西元 1905 年，臺灣進行歷史上第一次正式的戶口調查。請問：這是在臺灣歷史上的什麼時期？ (A)鄭氏在臺時期 (B)清帝國統治時期 (C)日本帝國統治時期 (D)中華民國時期。
- () 日本統治臺灣，推動「皇民化運動」：要臺灣人改日本姓，嚴禁講臺語，甚至要臺灣人穿和服，到神社祈禱日本武運長久。請問：日本「皇民化運動」時期，中國正處於哪個衝突中？ (A)推翻滿清 (B)一次大戰 (C)抵抗朝鮮 (D)對日抗戰。
- () 清代臺灣的交易方式非常混亂，不論是以物易物或各式貨幣——白銀、黃金、硬幣、紙鈔等等，充斥整個交易市場。日本成功接收臺灣後，對於這樣的現象進行怎樣的

措施？ (A)讓市場經濟呈現多元型態，未加以干涉 (B)直接在臺灣發行日幣 (C)成立臺灣銀行，對貨幣使用進行統一 (D)管制臺灣的貨幣流通，不允許交易買賣。

23. () 翻開臺灣鐵路發展史，從清代至今已有一百多年的歷史，對於臺灣交通運輸方面有極大的助益。下列關於臺灣鐵路的敘述，何者正確？ (A)丁日昌是臺灣最早興建鐵路的總督 (B)清代已完成從臺北到臺東間的鐵路 (C)日治時期的鐵路僅修建到大稻埕 (D)日治時期始完成西部縱貫鐵路。
24. () 臺灣抗日義軍被圍困在諸羅山時，民眾以歌唱出心中悲憤：「嘿！嘿！嘿都一隻鳥仔啾啾啾。哭到三更一又半暝(鳥兒在半夜仰空悲號)找無巢，嘿！嘿！嘿都什麼人啊甲我撞破一個巢？乎阮抓著不放伊甘休，荷嘿荷。」請問：民眾有「哭到三更一又半暝」的感慨，說明此抗日行動最後結果為何？ (A)臺灣民主國打敗日軍 (B)日本出動大軍鎮壓，臺灣民主國瓦解 (C)清廷曾試圖挽回臺灣，派兵協助臺灣義軍抗日 (D)沈葆楨來臺建設，防禦日軍的入侵。

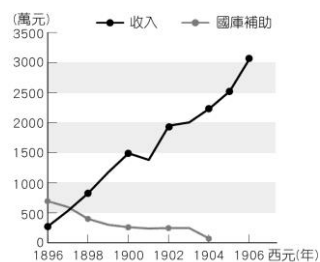
二、題組：

※電視劇「風中緋櫻」以原住民女性娥賓·塔達歐的視角，回顧日治時期最大的原住民抗日事件始末，及其後倖存者的生活。娥賓·塔達歐自小受日本教育，為當時政府培育的「模範蕃童」。在抗日事件中，她的丈夫身為原住民，又是警察和教師，艱難擺盪於政府和族人間，最後自殺身亡。她雖然活下來，卻被日本人強迫離開原居地，斷絕與過去的聯繫。原以為搬遷後能安靜度日，然而遇上戰爭爆發，不得不目送親弟弟因日本人發動的戰爭入伍。劇情細膩刻畫日治時期原住民面臨的種種曲折與悲哀。


25. () 上述文中的事件應為下列何者？ (A)西來庵事件 (B)皇民化運動 (C)臺灣民主國 (D)霧社事件。
26. () 娥賓·塔達歐的弟弟應是加入下列哪一個軍隊？ (A)神風特攻隊 (B)帝國陸軍 (C)高砂義勇隊 (D)臺灣民主國。
27. () 由題幹內容推斷，日治時期總督府對原住民的教化可能造成下列何種影響？ (A)大量原住民遷居平地，教化下漸漸與日人平起平坐 (B)資本家與政府勾結，警察作為執法者無法落實法治 (C)漢人與原住民間隔閡日漸擴大，臺灣社會漸被撕裂 (D)原住民難以化解身分認同上的矛盾，造成許多悲劇。

※請閱讀資料，並回答下列問題：

資料一：日本殖民臺灣初期，行政財源主要仰賴日本中央所提供的補助金，附圖 1 為日治初期臺灣的財政收支圖，由內容可知總督府的財政收入逐年增加，至西元 1905 年後財政已完全自立。



▲圖 1



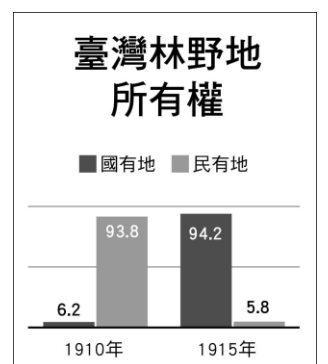
▲圖 2

資料二：樟樹分布於中低海拔闊葉林，是臺灣中低海拔主要樹種之一，將樟樹樹幹削成薄片，可蒸餾出樟腦及樟腦油等。西元 1899 年，臺灣總督府設立「臺灣樟腦局」，負責樟腦的收購、檢驗及配售，並在臺北城南門外設置工場，

進行加工提煉再製樟腦。第一次世界大戰後期，日本陸續整合臺灣八家精製樟腦業，設立「日本樟腦株式會社」(附圖 2 為日本樟腦株式會社內銷用樟腦包裝)。

28. () 根據兩則資料內容，請問：日治初期臺灣財政收入增加的原因與總督府採取哪一措施有關？ (A)統一貨幣 (B)專賣制度 (C)整建港口 (D)戶口調查。
29. () 承上述經濟措施，除了樟腦以外，還有哪一物品也列入其中？ (A)茶葉 (B)甘蔗 (C)稻米 (D)鴉片。
30. () 日治時期，臺灣財政收入逐年增加，讓總督府的財政得以自立外，也有助於日本在臺推動各項調查與建設工作。資料二的附圖展示樟腦來自臺灣豐富的山林資源，並以「原住民」作為代表臺灣的重要圖像。請問：上述資料所示的經濟措施，對原住民造成何種影響？ (A)負擔沉重勞役，生活空間受嚴重壓縮 (B)與日方成為夥伴關係，從中獲取利益 (C)配合警察推動政務，奠下堅實的統治 (D)受日本教化，組成義勇隊赴戰場作戰。

※下圖為西元 1910~1915 年，經過臺灣總督府實施「林野調查」政策後，林野地所有權的趨勢圖，請根據本圖回答問題：



31. () 請問此一變化，對於臺灣哪個族群的生活空間影響與衝擊最大？ (A)日本人 (B)泉州人 (C)漳州人 (D)原住民。
32. () 經過林野調查後，臺灣總督府能夠順利以合法方式，將大量山林地轉為國有地的主要因為何？ (A)大量國家資金購買 (B)擁有大批軍隊優勢 (C)臺灣山區尚未開發 (D)居民無法證明土地產權。

※寒假時，小夫到臺灣糖業博物館參觀，博物館的前身同時也是臺灣第一家新式製糖廠。製糖工廠舊建築整修為製糖設備實體展示館，提供參觀者了解一座糖廠如何在甘蔗運送到工廠後，經過壓榨、結晶、分蜜等製成糖的過程。請問：

33. () 小夫參觀的臺灣糖業博物館，前身為日治時期第一家現代化的製糖工廠，其位於何處？ (A)高雄 (B)臺中 (C)臺北 (D)花蓮。
34. () 小夫在博物館中看到一句俗諺：「第一憨，種甘蔗予會社磅」，說明當時蔗農面對什麼樣的情況？ (A)傻傻的種甘蔗才有錢賺 (B)會社刻意壓低收購價格，使蔗農吃大虧 (C)蔗農可以選擇收購價較高的會社出售甘蔗 (D)糖價上升，收購價也會跟著上升。
35. () 臺灣出現第一家新式製糖廠的時代，還沒有發生下列何事？ (A)林爽文事件 (B)霧社事件 (C)牡丹社事件 (D)西來庵事件。